

Série de révision n°1 (oscillations électriques et mécaniques) (Extraits du bac)

Exercice n°1 :

Un solide (S) de masse m est fixé à l'une des extrémités d'un ressort (R) à spires non jointives, de masse négligeable, de raideur $k = 25 \text{ N.m}^{-1}$ et dont l'autre extrémité est fixe. Le solide (S) est assujéti à se déplacer suivant l'axe du ressort (R) maintenu fixe et horizontal, tout en étant soumis à des frottements visqueux équivalents à une force $\vec{f} = -h\vec{v}$, où h est une constante positive appelée coefficient de frottement et \vec{v} est la vitesse instantanée du solide (S). on donne $h = 1,4 \text{ N.s.m}^{-1}$.

On applique au solide (S) une force excitatrice $\vec{F} = (1,1.\sin 2\pi Nt).\vec{i}$, où \vec{i} est le vecteur directeur unitaire de l'axe du ressort (R) et N est la fréquence réglable de l'excitateur. Le solide (S) se met à osciller suivant (O, \vec{i}) , de part et d'autre de la position d'équilibre O de son centre d'inertie G.

On désigne par $x(t)$ l'élongation de G en fonction du temps par rapport au repère (O, \vec{i}) .

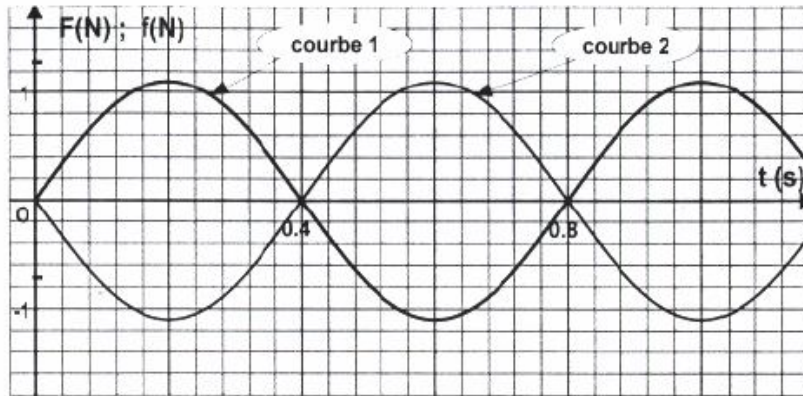
1. a) Par application de la relation fondamentale de la dynamique, montrer que les oscillations du centre d'inertie G du solide (S) sont régies par l'équation différentielle :

$$\frac{d^2x}{dt^2} + \frac{1}{\tau} \cdot \frac{dx}{dt} + \omega_0^2 \cdot x = \frac{F}{m}, \text{ où } \tau = \frac{m}{h} \text{ et } \omega_0^2 = \frac{k}{m}.$$

- b) Cette équation différentielle admet comme solution $x(t) = X_m \sin(2\pi Nt + \varphi_x)$.

De quel régime d'oscillations s'agit-il ? Justifier la réponse.

2. La fréquence N de l'excitateur étant fixée à une valeur particulière N_1 , on trace avec un dispositif approprié, les chronogrammes de la figure ci-contre ; l'un représente l'évolution de F et l'autre représente celle de f au cours du temps.



- a) Déterminer parmi les courbes (1) et (2) celle qui représente $F(t)$.
- b) A l'aide des deux courbes (1) et (2), déterminer :
 - la valeur N_1 de la fréquence de l'excitateur,
 - la valeur de l'amplitude f_m de la force de frottement \vec{f} ,
 En déduire la valeur de X_m et celle de φ_x .

- c) Montrer qu'à tout instant t , $x(t)$ vérifie la relation : $\frac{d^2x}{dt^2} + \omega_0^2 \cdot x = 0$

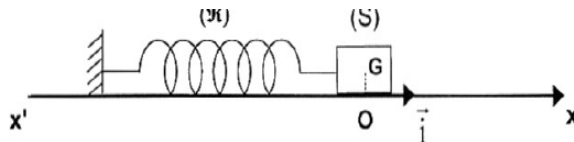
En déduire que l'oscillateur {(S), (R)} est en résonance de vitesse.
 Montrer que son énergie totale E est constante.

- d) Déterminer la valeur de la masse m du solide (S).

Exercice n°1 (6 points)

Les parties I et II sont indépendantes.

On dispose d'un pendule élastique horizontal comportant un ressort (R) et un solide (S) de masse m . L'une des extrémités de (R) est fixe tandis que l'autre extrémité est attachée à (S), comme le montre la figure ci-dessous. Le solide (S) est susceptible de glisser sur un plan horizontal, dans le repère galiléen (O, \vec{i}) confondu avec l'axe du ressort et dont l'origine O est la position de repos du centre d'inertie G de (S). Le ressort (R) a une raideur k et une masse négligeable devant celle de (S).



I- On écarte le solide (**S**) de sa position de repos **O** en le déplaçant, suivant l'axe $x'x$, de manière à ce que le ressort (**R**) se comprime d'une longueur **a**. A l'instant $t = 0$ s, on l'abandonne à lui-même, sans vitesse initiale.

Avec un dispositif approprié, on enregistre dans le repère (O, \vec{i}) le diagramme de mouvement du centre d'inertie **G** de (**S**). Ainsi, on obtient l'une des courbes sinusoïdales de la figure 1 (**feuille annexe, page 5/6**).

- 1) a- De telles oscillations de (**S**) sont dites libres. Justifier cette qualification.
b- Montrer que ces oscillations sont non amorties.
- 2) a- Calculer la phase initiale ϕ des oscillations de (**S**) et en déduire que c'est la courbe 2 qui représente le diagramme du mouvement de (**S**).
b- Montrer que l'amplitude des oscillations est égale à la longueur **a** dont on a comprimé initialement le ressort.
- Déterminer graphiquement la valeur de l'amplitude **a** et celle de la période T_0 des oscillations.
c- Calculer la valeur de la raideur **k** du ressort sachant que $m = 289$ g.

II- Au cours de son mouvement, le solide (**S**) est soumis maintenant à des frottements visqueux équivalents à une force $\vec{f} = -h\vec{v}$, où **h** et \vec{v} sont respectivement le coefficient de frottement et le vecteur vitesse instantanée du centre d'inertie **G** de (**S**).

Pour entretenir ses oscillations, on soumet (**S**), à l'aide d'un dispositif approprié, à une force excitatrice $\vec{F}(t) = F_m \sin\left(\frac{2\pi}{T}t + \phi_F\right)\vec{i}$. Ainsi, (**S**) se met à osciller à la période **T** et avec une amplitude X_m . Pour une valeur T_1 de **T**, les chronogrammes de $x(t)$ et de $F(t)$ sont représentés par les courbes sinusoïdales I et II de la figure 2 (**Annexe, page 5/6**).

- 1) a- Sachant que l'élongation $x(t)$ ne peut évoluer qu'en retard de phase par rapport à $F(t)$, montrer, parmi les courbes I et II, que c'est la courbe I qui représente $F(t)$.
b- A l'aide des graphiques de la même figure 2, écrire les expressions de $x(t)$ et de $F(t)$ tout en précisant les valeurs de leur fréquence N_1 , de leur valeur maximale et de leur phase initiale.
- 2) a- Montrer qu'avec des excitations de période **T**, l'élongation x de **G**, sa vitesse

instantanée $v = \frac{dx}{dt}$ et son accélération $a = \frac{d^2x}{dt^2}$, vérifient à tout instant t la relation :

$$m \frac{d^2x}{dt^2} + h \frac{dx}{dt} + kx = F_m \sin\left(\frac{2\pi}{T}t + \phi_F\right).$$

b- La construction de Fresnel inachevée de la figure 2 de la feuille annexe (**page 6/6 : feuille à remplir et à rendre avec la copie**) correspond aux oscillations forcées du pendule élastique à la période T_1 . Compléter cette construction tout en l'annotant.

- 3) Déterminer (sans calcul) le sens dans lequel il faut faire varier la période **T** de l'excitateur à partir de la valeur T_1 pour obtenir une résonance d'élongation.

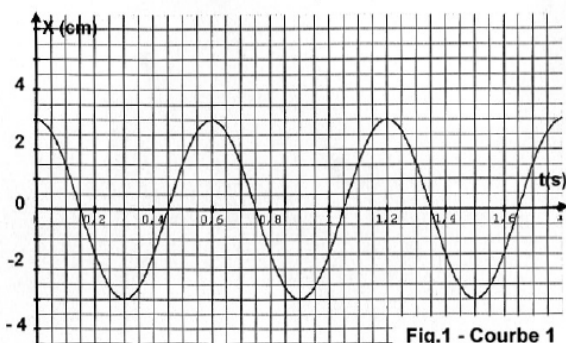


Fig.1 - Courbe 1

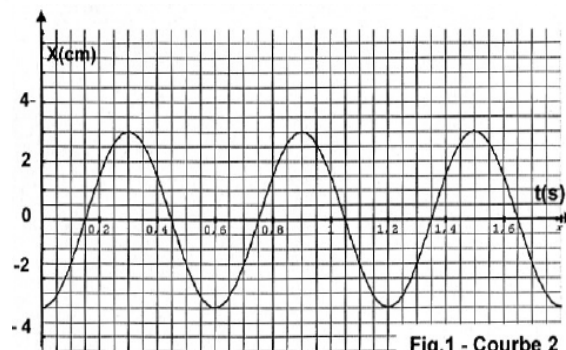


Fig.1 - Courbe 2

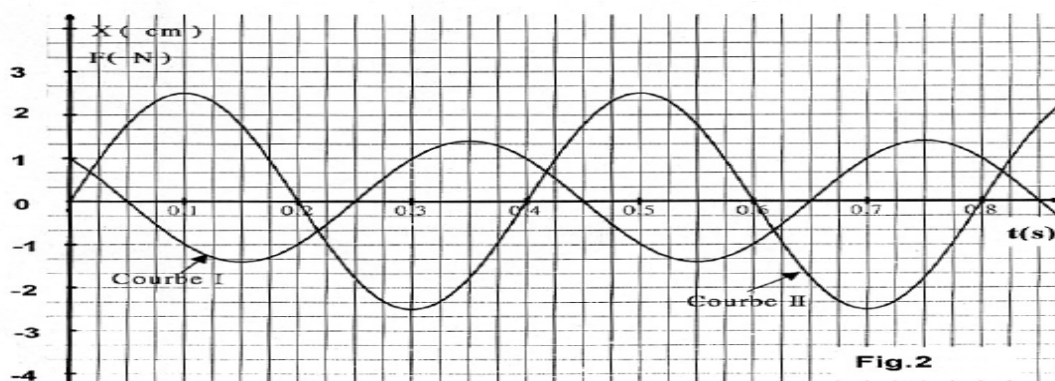


Fig.2

Exercice n° 1 (6 points)

Les parties I et II sont indépendantes.

I- On associe en série un générateur G de fem E et de résistance interne supposée nulle, un résistor de résistance R réglable, un condensateur de capacité C ne portant initialement aucune charge électrique et un interrupteur K .
 À l'instant $t = 0$ s, on ferme le circuit.
 Par un système approprié, on enregistre l'évolution temporelle de la tension u_c aux bornes du condensateur. On obtient alors le chronogramme (\mathcal{C}) et sa tangente (T) au point correspondant à $t = 0$ s (Fig.1).

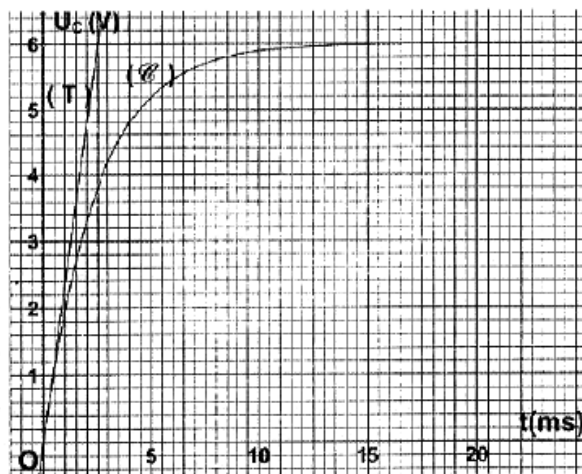


Fig.1

- 1) Déterminer graphiquement :
 - a- la valeur de la fem E du générateur.
 - b- la valeur de la constante de temps τ du dipôle RC.
- 2) Déduire de la valeur de τ , la durée approximative au bout de laquelle le condensateur devient complètement chargé.
- 3) Sachant que la résistance du résistor est fixée à la valeur $R = 2 \text{ k}\Omega$, calculer la valeur de la capacité C du condensateur utilisé.

II- On réalise un circuit comportant un GBF (Générateur basse fréquence), une bobine d'inductance L inconnue et de résistance $r = 50 \Omega$, un résistor de résistance $R = 100 \Omega$, un condensateur de capacité $C = 2,85 \mu\text{F}$ et un ampèremètre, montés tous en série (Fig.2).

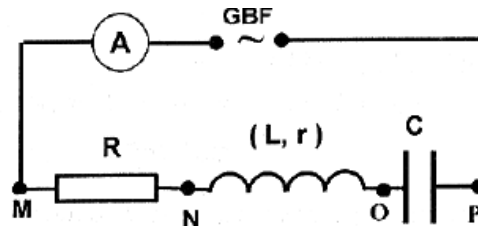
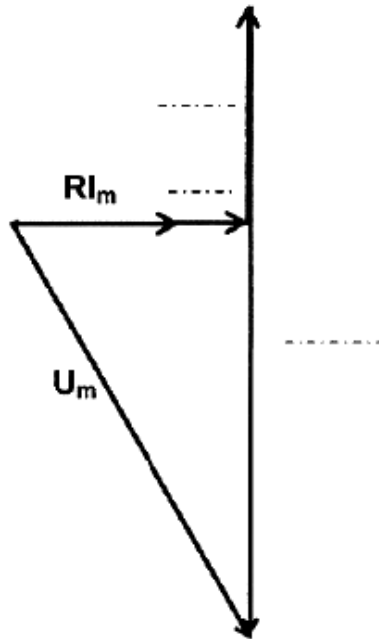


Fig.2

Le GBF utilisé alimente le circuit en délivrant à ses bornes une tension sinusoïdale $u(t) = U_m \sin(2\pi Nt)$ de fréquence N réglable et d'amplitude $U_m = 6 \text{ V}$. De ce fait, l'intensité $i(t)$ du courant électrique qui circule dans le circuit vérifie l'équation différentielle suivante :

$$L \frac{di}{dt} + (R + r).i + \frac{1}{C} \int i . dt = U_m \sin(2\pi Nt)$$

- 1) On admet que $i(t) = I_m \sin(2\pi Nt + \phi_1)$ est une solution particulière de cette équation différentielle, en régime permanent.
 A une valeur N_1 de N , les mesures des tensions aux bornes des différents dipôles du circuit de la figure 2 permettent de réaliser, à l'échelle, la construction de Fresnel de la figure 3 de la feuille annexe (page 5/5 : feuille à remplir et à rendre avec la copie).
 Compléter l'annotation de la construction de Fresnel sus indiquée.
- 2) A l'aide de la construction de Fresnel complétée :
 - a- donner la valeur maximale U_{Rm} de la tension aux bornes du résistor et en déduire la valeur de l'intensité maximale I_m .
 - b- donner la valeur maximale U_{Cm} de la tension aux bornes du condensateur et en déduire la valeur N_1 de la fréquence du GBF,
 - c- déterminer la valeur de l'inductance L de la bobine.
- 3) En fixant la fréquence N du GBF à la valeur $N_2 = 236 \text{ Hz}$, l'ampèremètre indique la valeur $I_2 = 28,3 \text{ mA}$.
 - a- Calculer la valeur de l'impédance Z_2 de l'oscillateur RLC série.
 - b- Comparer Z_2 à la résistance totale de l'oscillateur et en déduire que celui-ci est, dans ces conditions, le siège d'un phénomène dont on précisera le nom.
 - c- Retrouver la valeur de l'inductance L de la bobine.



Échelle:
1 cm représente 1 V.

Figure 3

EXERCICE 2 (4,5 points)

Un pendule élastique est constitué d'un solide (S) de masse m et d'un ressort (R) de raideur $k = 40 \text{ N.m}^{-1}$ et de masse négligeable devant celle de (S).

- I. Le solide (S), libre de se mouvoir sur un banc à coussin d'air horizontal, est écarté de sa position de repos dans la direction d'un axe (O, \vec{i}) parallèle au banc, puis libéré sans vitesse initiale à un instant t_0 qui sera pris comme origine des temps ($t_0 = 0$). Pour étudier les oscillations du pendule, on repère au cours du temps, la position du centre d'inertie G du solide (S) dans le repère (O, \vec{i}) (Fig.3).

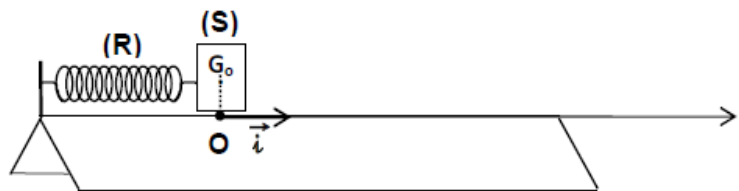


Fig.3

1. a) En désignant par x l'abscisse de G et par v , sa vitesse à un instant t donné, exprimer l'énergie mécanique E du pendule élastique en fonction de m , k , v et x .
b) En admettant que E reste constante au cours des oscillations, établir en x , l'équation différentielle des oscillations de G.
2. Un système approprié d'acquisition des données permet d'obtenir les courbes 1 et 2 de la figure 4.

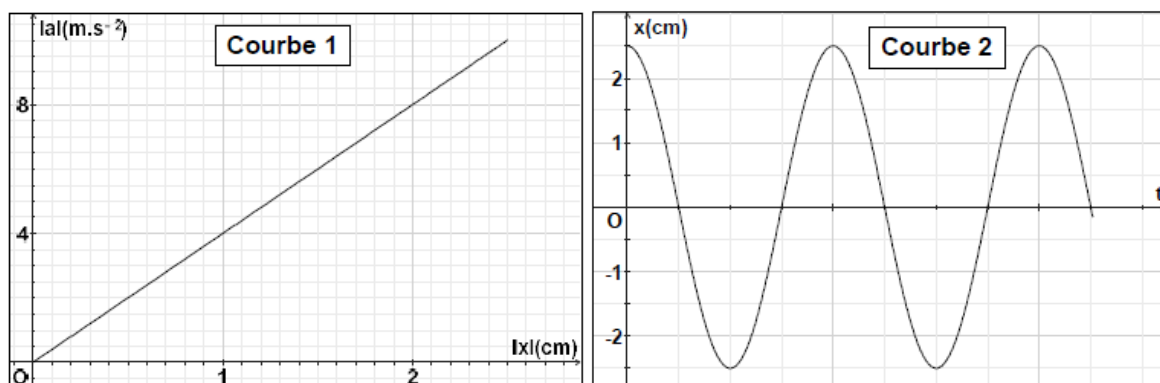


Fig.4

La courbe 1 traduit l'évolution de la valeur absolue de l'accélération a de G en fonction de la valeur absolue de son élongation x ; la courbe 2 représente l'évolution de x au cours du temps t .

a) Montrer que la forme droite de la courbe 1 vérifie l'équation différentielle établie dans 1.b.

b) En déduire la valeur de :

- la pulsation des oscillations,
- la masse m du solide (S).

c) Déterminer :

- les expressions de $x(t)$ et de $v(t)$,
- le sens dans lequel le solide (S) a été écarté initialement.

II. Le solide (S) est maintenant soumis, au cours de ses oscillations, à une force excitatrice $\vec{F} = (1,2 \sin 18 t) \cdot \vec{i}$ et à une force de frottement $\vec{f} = -h \vec{v}$, avec $h = 0,8 \text{ N.s.m}^{-1}$.

1. Sachant que pour un dipôle **RLC série** soumis à une tension alternative sinusoïdale $u(t) = U_m \sin \omega t$, l'équation différentielle reliant la charge du condensateur q à sa dérivée première et à sa dérivée seconde

est : $L \frac{d^2q}{dt^2} + R \frac{dq}{dt} + \frac{q}{C} = u$ et sa solution est de la forme : $q = Q_m \sin (\omega t + \varphi_q)$,

avec $Q_m = \frac{U_m}{\sqrt{R^2 \omega^2 + (L\omega^2 - \frac{1}{C})^2}}$: charge maximale et φ_q , phase initiale de q telle que $\tan \varphi_q = \frac{R \omega}{L\omega^2 - \frac{1}{C}}$.

a) En précisant l'analogie utilisée, écrire :

- l'équation différentielle reliant l'abscisse x de G à sa dérivée première et à sa dérivée seconde pour l'oscillateur mécanique,

- l'expression de $x(t)$ en régime permanent, en précisant son amplitude X_m et sa phase initiale φ_x .

b) En déduire l'expression de la vitesse $v(t)$ de G .

2. On modifie la pulsation de l'excitateur. Pour une valeur ω_1 de celle-ci, l'amplitude des oscillations devient maximale.

a) Donner le nom du phénomène dont l'oscillateur est le siège à la pulsation ω_1 .

b) Dans le cas d'un circuit **RLC série**, un phénomène analogue peut être observé à une valeur ω_r de la pulsation de la tension excitatrice $u(t)$.

Etablir l'expression de ω_r en fonction de la pulsation propre ω_0 du circuit, de la résistance R et de l'inductance L .

c) - En déduire par analogie, l'expression de ω_1 en fonction de h , m et ω_0 , la pulsation propre du pendule élastique.

- Calculer la valeur de ω_1 .

d) Calculer la puissance mécanique moyenne du pendule oscillant à la pulsation ω_1 .

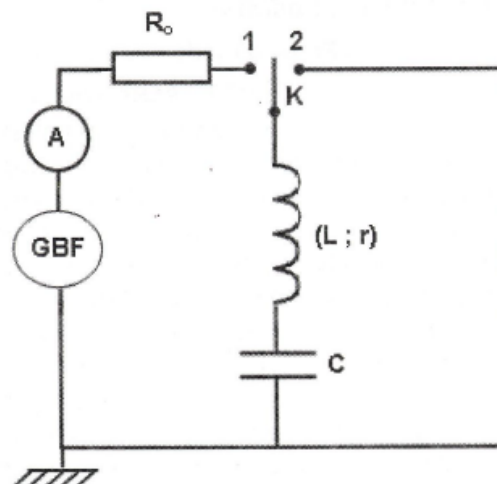
Exercice 1 (5 points)

On dispose d'un **GBF** (générateur basse fréquence) délivrant entre ses bornes une tension sinusoïdale $u(t) = U_m \sin(2\pi Nt)$, de fréquence N réglable et d'un circuit **RLC série** constitué d'un résistor de résistance $R_0 = 35 \Omega$, d'un condensateur de capacité $C = 2,8 \mu\text{F}$ et d'une bobine d'inductance $L = 0,016 \text{ H}$ et de résistance interne $r = 6 \Omega$. A l'aide d'un commutateur K (Fig.1) que l'on met dans la position 1, un courant électrique oscille dans le circuit **RLC série** ($R = R_0 + r$) avec une intensité $i(t) = I_m \sin(2\pi Nt + \varphi_1)$, où

$$I_m = \frac{U_m}{\sqrt{(R_0 + r)^2 + (2\pi N L - \frac{1}{2\pi N C})^2}}$$

et φ_1 est la phase initiale de $i(t)$.

Un système d'acquisition informatique permet de tracer les chronogrammes de la tension d'alimentation $u(t)$ et de la tension $u_c(t)$ aux bornes du condensateur.



1. Pour une valeur N_1 de N , un ampèremètre inséré dans le circuit indique la valeur $I_1 = 207 \text{ mA}$ et on obtient pour $u(t)$ et $u_c(t)$, les chronogrammes sinusoïdaux \mathcal{E}_1 et \mathcal{E}_2 de la figure Fig.2.

Fig.1

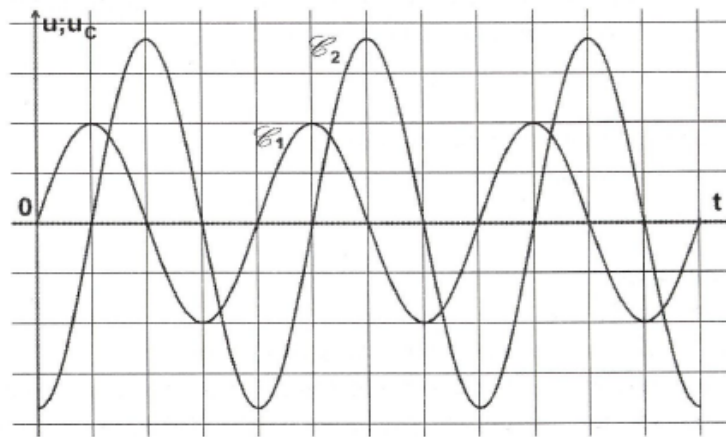


Fig.2

- Montrer, en s'appuyant sur la figure Fig.2, que la courbe \mathcal{E}_1 est le chronogramme de $u(t)$.
- Déterminer graphiquement la valeur du déphasage $\Delta\varphi = (\varphi_{u_c} - \varphi_u)$ et en déduire que le circuit est le siège d'une résonance d'intensité.
- Calculer la valeur de N_1 .
- Calculer les valeurs de U_m et de U_{cm} .

2. a) Etablir l'expression de la charge maximale Q_m du condensateur en fonction de la fréquence N du GBF et de l'intensité maximale I_m du courant oscillant dans le circuit RLC série.

- b) – Montrer que le circuit RLC série est le siège d'une résonance de charge à la fréquence

$$N_r = \sqrt{N_o^2 - \frac{(R_o + r)^2}{8\pi^2 L^2}}, \text{ où } N_o \text{ est la fréquence propre de l'oscillateur.}$$

- En déduire le sens dans lequel il faut faire varier la fréquence N du GBF, à partir de la valeur N_1 , pour transformer la résonance d'intensité en une résonance de charge.

3. Après une certaine durée de fonctionnement et juste à l'instant où la tension u_c aux bornes du condensateur est maximale, on bascule le commutateur K de la position 1 à la position 2. Sachant que la valeur $r = 6 \Omega$ est suffisamment petite pour que le circuit rLC série se mette à osciller, préciser la nature des oscillations et donner deux propriétés distinguant ces oscillations de celles des questions (1) et (2).

Exercice 1 (4,5 points)

Le circuit de la figure 1 comporte un générateur supposé idéal de fem E , un interrupteur K , un ampèremètre (A_1), un résistor de résistance $R = 200 \Omega$ et un dipôle D , tous branchés en série.

Le dipôle D peut être soit :

- une bobine d'inductance L et de résistance interne supposée nulle,
- un condensateur de capacité C .

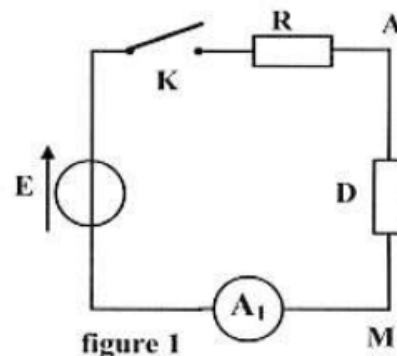


figure 1

A une date $t = 0$, on ferme l'interrupteur K et on visualise, la tension $u_{AM}(t)$ aux bornes du dipôle D , à l'aide d'un oscilloscope, on obtient alors la courbe de la figure 2 de la page 5/5.

- 1) Préciser, en le justifiant, si le dipôle D est une bobine ou bien un condensateur.

- 2) Etablir l'équation différentielle vérifiée par la tension $u_{AM}(t)$.

- 3) La solution de l'équation différentielle précédente s'écrit : $u_{AM}(t) = U_0(1 - e^{-\frac{t}{\tau}})$.

- Déterminer graphiquement les valeurs de la tension U_0 et de la constante de temps τ .
- En déduire la valeur de la grandeur (L ou C) qui caractérise le dipôle D .

- 4) Maintenant, on insère en série, dans le circuit, une bobine d'inductance $L = 0,5 \text{ H}$ et de résistance interne r et on remplace le générateur de fem E par un GBF délivrant une tension sinusoïdale $u(t) = U_m \sin(2\pi N t)$ d'amplitude U_m constante et de fréquence N réglable.

L'intensité instantanée du courant électrique $i(t)$, circulant dans le circuit, vérifie l'équation différentielle suivante : $L \frac{di}{dt} + (R + r).i + \frac{1}{C} \int i dt = u(t)$. La solution de cette équation s'écrit :

$$i(t) = I_m \sin(2\pi N t - \frac{\pi}{4}).$$

On maintient la fréquence du GBF à une valeur N_1 . Une étude appropriée permet de tracer le diagramme de Fresnel représenté par la figure 3 de la page 5/5.

- Préciser, en le justifiant, la nature (inductif, capacitif ou résistif) du circuit.
- Compléter, sur la figure 3 de la page 5/5 (à remplir par le candidat et à remettre avec sa copie), en respectant l'échelle donnée, le diagramme de Fresnel correspondant à l'équation différentielle précédente. Préciser les expressions de X_2 et de X_3 .
- Montrer que l'impédance Z du circuit s'écrit : $Z = \sqrt{2}.(R + r)$.
- L'intensité du courant électrique, mesurée à l'aide de l'ampèremètre, est de valeur $I = \frac{38,6}{\sqrt{2}} \text{ mA}$. Déterminer la valeur de la résistance r .

- 5) On fait varier la fréquence N du GBF à partir de la valeur N_1 jusqu'à la valeur N_0 . Pour cette fréquence N_0 , l'ampèremètre indique la valeur la plus élevée $I_0 = \frac{57,5}{\sqrt{2}} \text{ mA}$.

- Justifier, sans faire de calcul, que pour $N = N_0$, on peut retrouver la valeur de la grandeur qui caractérise le dipôle D .
- La tension maximale que peut supporter ce condensateur est de 20 V . Préciser, en le justifiant, s'il y a risque de claquage du condensateur.

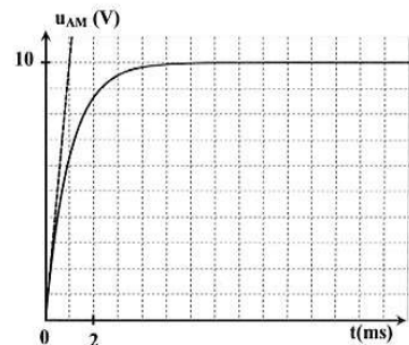
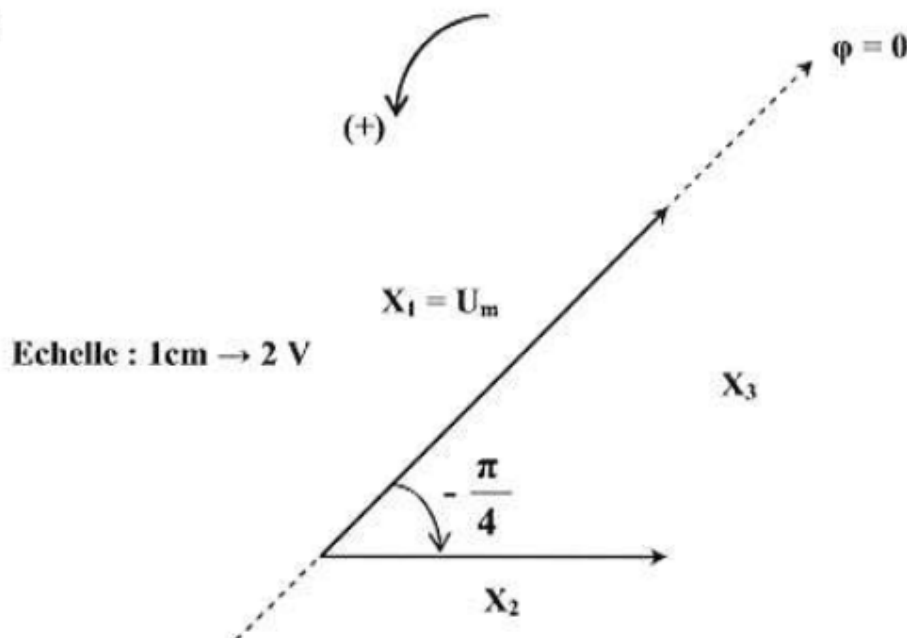


figure 2

figure 3



Exercice 1 (5,25 points)

Les deux parties I et II sont indépendantes

Partie I

Afin d'étudier expérimentalement la réponse d'un dipôle RC à un échelon de tension, on réalise le circuit électrique de la **figure 1** qui comporte :

- un générateur de tension idéal de force électromotrice E ;
- un condensateur de capacité $C = 2.10^{-6} \text{ F}$ initialement déchargé ;
- un résistor de résistance R réglable ;
- un interrupteur K .

A un instant $t = 0$, pris comme origine des temps, on ferme l'interrupteur K .

- 1) Préciser le phénomène physique qui se produit au niveau du condensateur.
- 2) a - Montrer que l'équation différentielle régissant les variations de la tension u_C aux bornes du condensateur au cours du temps s'écrit :

$$RC \frac{du_C}{dt} + u_C = E.$$

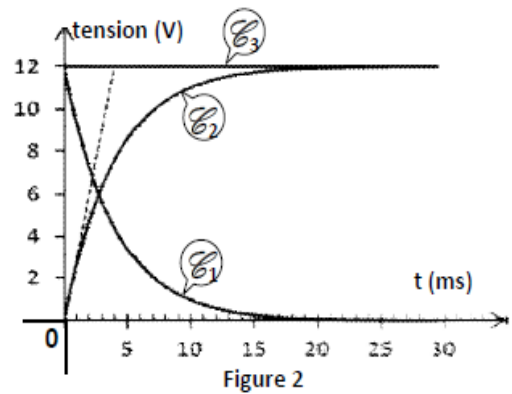
- b - En admettant que la solution de cette équation différentielle est de la forme :

$$u_C = A \left(1 - e^{-\frac{t}{\tau}} \right),$$

préciser les expressions de A et de τ .

- 3) Un système d'acquisition approprié permet de suivre l'évolution temporelle des tensions u_C , u_G et u_R respectivement aux bornes du condensateur, du générateur et du résistor. Pour une valeur de $R = R_1$, on obtient les courbes \mathcal{C}_1 , \mathcal{C}_2 et \mathcal{C}_3 de la **figure 2**.

- a - En justifiant la réponse, faire correspondre chacune des courbes \mathcal{C}_1 , \mathcal{C}_2 et \mathcal{C}_3 à la tension qu'elle représente.
- b - En exploitant les courbes de la **figure 2**, déterminer la fem E et la constante de temps τ du circuit. En déduire la valeur de R_1 .
- c - Déterminer l'instant t_1 pour lequel la tension $u_C(t)$ est égale à $u_{R1}(t)$.



- d - Exprimer u_C en fonction de E , t_1 et t . En déduire le pourcentage de charge du condensateur aux instants : t_1 et $t_2 = 6,6 t_1$.

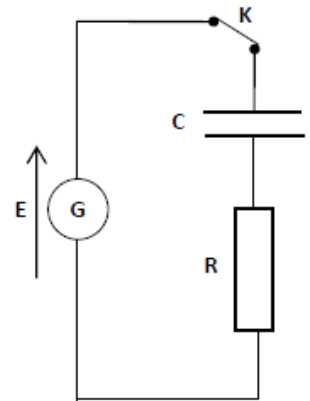


Figure 1

Partie II

Dans le circuit précédent on insère, en série avec le condensateur de capacité $C = 2.10^{-6} \text{ F}$, une bobine d'inductance L et de résistance r .

On ajuste la résistance du résistor à la valeur $R_2 = 90 \Omega$ et on remplace le générateur de fem E par un générateur de basses fréquences GBF délivrant une tension sinusoïdale $u(t) = U_m \sin(2\pi Nt)$, d'amplitude U_m constante et de fréquence N réglable (**figure 3**).

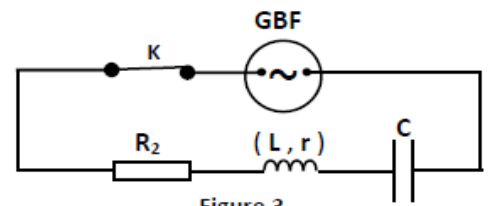


Figure 3

Le système d'acquisition permet d'avoir à la fois les chronogrammes de la tension $u(t)$ et de la tension $u_{R2}(t)$ aux bornes du résistor.

Pour une valeur N_1 de la fréquence N du générateur, on obtient les courbes \mathcal{C}_4 et \mathcal{C}_5 de la **figure 4**.

- 1) a – Montrer que la courbe \mathcal{E}_4 correspond à $u(t)$.
 b – Justifier que le circuit est le siège d'oscillations électriques forcées.
- 2) En exploitant les courbes de la figure 4, déterminer :
 a – la fréquence N_1 de $u(t)$ et l'intensité maximale I_{1m} du courant qui circule dans le circuit.
 b – la phase initiale de $u_{R_2}(t)$.
- 3) a – Préciser la nature du circuit (inductif, capacitif ou résistif) à la fréquence N_1 .
 b – Calculer l'impédance électrique Z du dipôle RLC étudié.
 c – Déterminer les valeurs de r et L et déduire la fréquence propre N_0 de l'oscillateur.

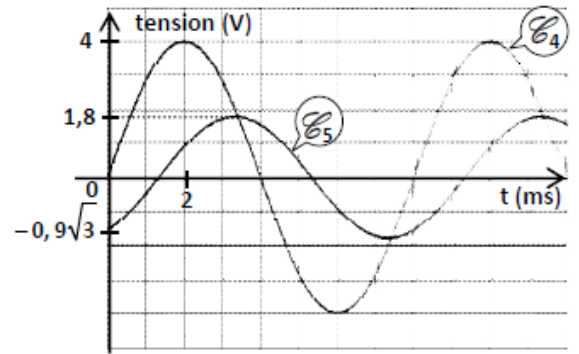


Figure 4

Exercice 1 (5 points)

PARTIE I :

On dispose d'un circuit électrique série constitué par :

- un résistor de résistance $R_0 = 50\Omega$;
- une bobine (B) d'inductance L et de résistance r ;
- un condensateur de capacité $C = 2,1\mu\text{F}$ complètement chargé au préalable à l'aide d'un générateur supposé idéal de force électromotrice $E = 6\text{V}$.

On réalise une expérience qui permet d'enregistrer séparément l'évolution temporelle des tensions suivantes :

u_{R_0} aux bornes du résistor, u_B aux bornes de la bobine et u_C aux bornes du condensateur.

On obtient les courbes \mathcal{E}_1 , \mathcal{E}_2 et \mathcal{E}_3 de la figure 3 ci-dessous :

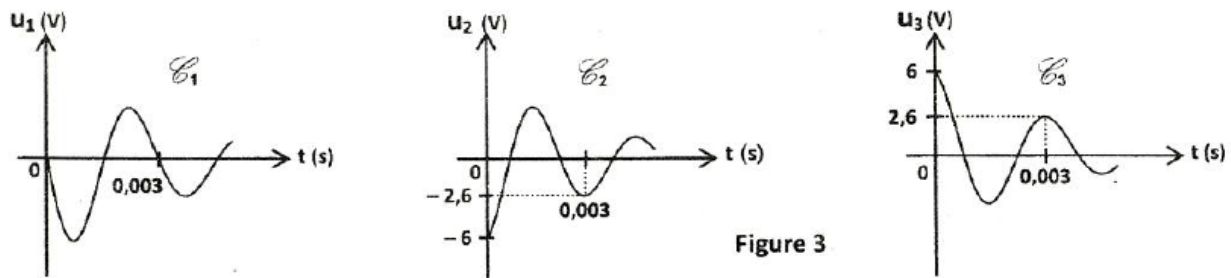


Figure 3

- 1) a – Justifier que la courbe \mathcal{E}_3 représente la tension $u_C(t)$.
 b – Attribuer, en le justifiant, chacune des deux courbes \mathcal{E}_1 et \mathcal{E}_2 , à la tension $u(t)$ qu'elle représente.
- 2) Calculer la variation ΔE de l'énergie totale emmagasinée par l'oscillateur entre les deux instants $t_1 = 0\text{s}$ et $t_2 = 0,003\text{s}$. Donner la cause de cette variation.

Partie II

Dans le but de déterminer la valeur de la résistance r de la bobine (B) et celle de son inductance L , on insère en série dans le circuit précédent :

- un générateur de basses fréquences (GBF) délivrant une tension alternative sinusoïdale

$$u(t) = U\sqrt{2} \sin\left(2\pi N t + \frac{\pi}{4}\right), \text{ de valeur efficace } U \text{ constante et de fréquence } N \text{ réglable ;}$$

- un ampèremètre (A) de résistance négligeable.

Pour une valeur $N_1 = 377,4 \text{ Hz}$ de la fréquence, l'intensité instantanée du courant électrique qui circule dans le

circuit est : $i_1(t) = I_1\sqrt{2} \sin(2\pi N_1 t)$; où I_1 est l'intensité efficace du courant électrique. Deux voltmètres (V_1) et (V_2) sont branchés respectivement aux bornes du résistor de résistance R_0 et aux bornes de l'ensemble {bobine, condensateur} (Figure 4).

Les deux voltmètres (V_1) et (V_2) donnent respectivement les valeurs

$$U_1 = 2,50 \text{ V et } U_2 = 3,05 \text{ V.}$$

- 1) a – Déterminer la valeur de l'intensité I_1 .
 b – Préciser, en le justifiant, la nature du circuit (inductif, capacitif ou résistif).

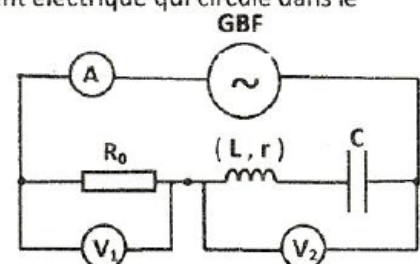


Figure 4

2) La figure 7 de la page 5/5 (à remplir par le candidat et à remettre avec la copie), représente la construction de Fresnel inachevée et associée au circuit étudié à la fréquence N_1 .

a – Compléter la construction de Fresnel à l'échelle : 2 cm pour $\sqrt{2}$ V. On désignera par :

* \vec{OA} le vecteur associé à la tension $u_{R_0}(t)$;

* \vec{AB} le vecteur associé à la tension $u_{(B,C)}(t)$, (tension aux bornes de l'ensemble bobine et condensateur);

* \vec{OB} le vecteur associé à la tension $u(t)$.

b – Déduire les valeurs de U , r et L .

3) On prendra dans la suite de l'exercice $r = 10 \Omega$. On règle maintenant la fréquence N à une valeur N_2 de façon à avoir $U_1 = 5 U_2$.

a – Montrer que le circuit est le siège d'une résonance d'intensité.

b – Montrer que dans ces conditions, on a : $\frac{U_c}{U} = \frac{1}{(R_0 + r)} \sqrt{\frac{L}{C}}$.

c – Déduire la nature du phénomène qui se produit aux bornes du condensateur. Ya-t-il risque de claquage du condensateur sachant que sa tension nominale est égale à 18V ?




Figure 7

Exercice 3 : Oscillateur électrique (6 points)

Le circuit électrique schématisé sur la figure 6 comporte les éléments suivants:

- Un générateur basses fréquences (G.B.F) délivrant une tension sinusoïdale $u(t)$ de fréquence N variable et d'amplitude U_m constante,
- Un condensateur de capacité C ,
- Une bobine d'inductance L et de résistance interne r ,
- Un résistor de résistance R_0 ,
- Un ampèremètre de résistance interne négligeable.

On se propose d'étudier la réponse de l'oscillateur ($R = R_0 + r$, L , C), pour différentes valeurs de N .

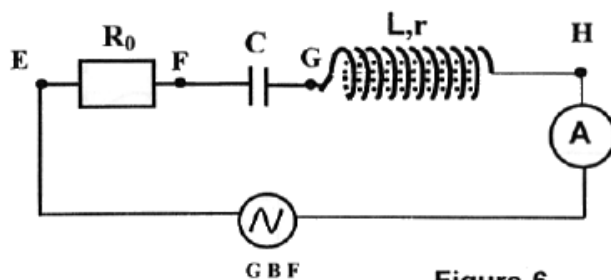
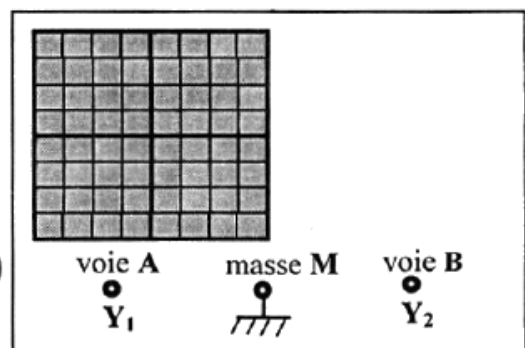


Figure-6



Oscilloscope

I – Expérience 1

Pour une valeur N_1 de la fréquence, un oscilloscope bicourbe, convenablement branché, permet de visualiser simultanément les deux tensions $u(t)$ et $u_{R_0}(t)$, respectivement aux bornes du GBF et aux bornes du résistor R_0 ; on obtient les oscillogrammes de la figure 7.

Les sensibilités verticale et horizontale, pour les deux voies A et B utilisées, sont respectivement : 2 V / div et 1 ms / div .

- 1) a – Montrer que la courbe (\mathcal{C}_1) visualisée sur la voie A de l'oscilloscope correspond à la tension $u(t)$ aux bornes du G.B.F.
- b – Lequel des points E, F, G ou H de la figure 6, est relié à la voie A de l'oscilloscope ? Justifier la réponse.
- 2) En exploitant l'oscillogramme de la figure 7.
 - a – Déterminer le déphasage $\Delta\varphi = \varphi_{u(t)} - \varphi_{u_{R_0}(t)}$ et justifier son signe, sachant que $\varphi_{u(t)}$ est la phase initiale (à $t=0$) de $u(t)$ et $\varphi_{u_{R_0}(t)}$ est la phase initiale de $u_{R_0}(t)$.
 - b – Sachant que $u(t) = U_m \sin(2\pi N_1 t)$, recopier puis compléter le tableau suivant, en précisant les valeurs des grandeurs physiques :

	Valeur maximale	Phase initiale	Fréquence N_1
$u(t)$			
$u_{R_0}(t)$			

- c – Quelle est l'indication de l'ampèremètre, sachant que l'impédance du circuit est $Z = 90\Omega$

- d – Calculer la valeur de la résistance R_0 .

On rappelle que l'impédance Z est :

$$Z = \sqrt{(R_0 + r)^2 + (L\omega_1 - \frac{1}{C\omega_1})^2}$$

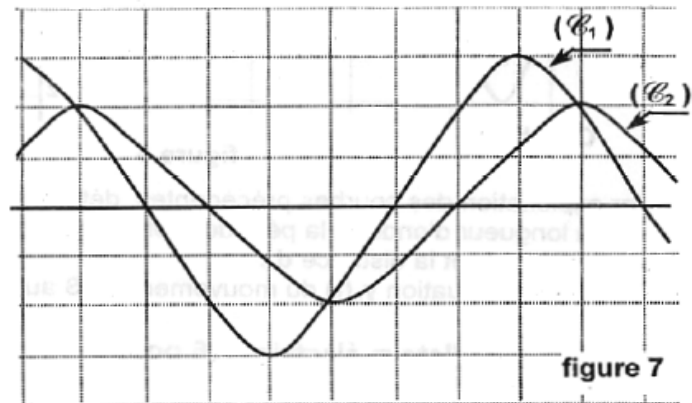


figure 7

II – Expérience 2

On fait varier la fréquence N .

Pour une valeur N_2 de cette fréquence les oscillogrammes obtenus sont représentés sur la figure 8.

La sensibilité horizontale des oscillogrammes est 2 ms / div . La sensibilité verticale est 2 V/div pour la voie A qui visualise $u(t)$ et 5 V/div pour la voie B qui visualise $u_{R_0}(t)$.

- 1) Justifier le fait que l'oscillateur est en état de résonance d'intensité.

- 2) La valeur de R_0 étant $R_0 = 60\Omega$, quelle est la nouvelle indication de l'ampèremètre ?

- 3) Montrer que la valeur de la résistance r de la bobine est environ 12Ω .

- 4) Sachant que $L = 1\text{ H}$, calculer la valeur de la capacité C du condensateur.

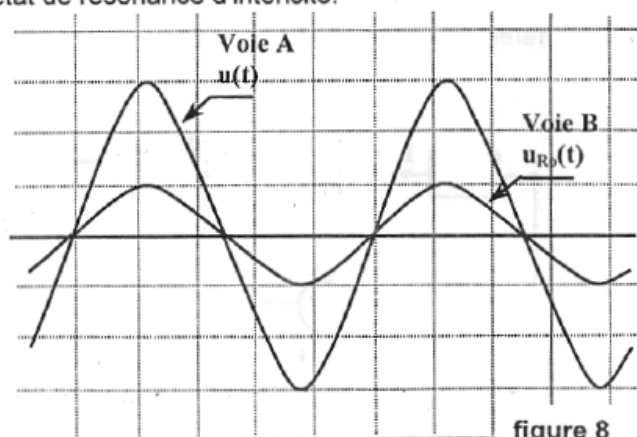


figure 8

Exercice n°3 (6 points)

Le dispositif de la figure - 6 - comporte :

- un ressort (R) de constante de raideur K et de masse négligeable, est disposé verticalement tel que son extrémité supérieure est attachée au fil (f) permettant de le mettre en liaison avec l'excitateur.

- un récipient transparent contenant un liquide visqueux.

- un solide (S) de masse m est accroché à l'extrémité libre du ressort. Au cours de son mouvement, il baigne totalement dans le liquide et est soumis à des frottements de type visqueux dont la résultante est $\vec{f} = -h \cdot \vec{v}$ où h est une constante positive dont la valeur dépend de la nature du liquide visqueux utilisé et de la forme du solide et \vec{v} est la vitesse instantanée du centre d'inertie G de (S).

L'action de l'excitateur est équivalente à une force excitatrice $\vec{F} = F_{\max} \sin(2\pi N_e t) \cdot \vec{i}$ qui s'exerce sur le solide (S).

- une règlette (r) sur laquelle on peut repérer la position de l'index.

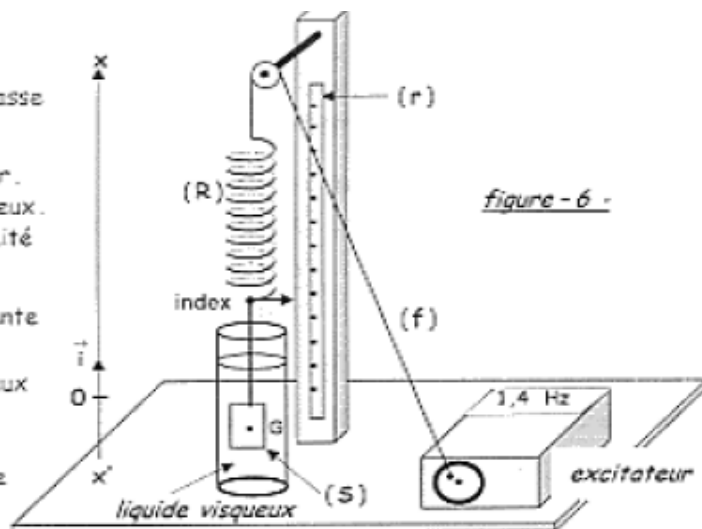


figure - 6 -

La position de G est définie par son abscisse x par rapport au repère (O, \vec{i}) d'axe $x'x$. L'origine O correspond à la position d'équilibre de G lorsque (S) est au repos.

1 - L'expression de la fréquence propre de l'oscillateur formé par (S) et (R) est $N_0 = \frac{1}{2\pi} \sqrt{\frac{K}{m}}$.

a - Etablir une relation entre m, K, l'allongement $\Delta \ell$ du ressort lorsque (S) est au repos et l'intensité de la pesanteur $|\vec{g}|$.

b - En déduire l'expression de N_0 en fonction de $\Delta \ell$ et $|\vec{g}|$.

Calculer sa valeur sachant que $\Delta \ell = 118 \text{ mm}$ et $|\vec{g}| = 9,8 \text{ m.s}^{-2}$.

2 - Au cours d'une séance de travaux pratiques on mesure, pour différentes valeurs de la fréquence N_e , la durée Δt correspondante à 10 oscillations du solide (S). Ce qui permet d'obtenir le tableau de mesures suivant :

N_e (en Hz)	1,45	1,2	1
Δt (en s)	6,896	8,333	10
fréquence des oscillations $N = \frac{10}{\Delta t}$ (en Hz)			

a - Compléter le tableau en inscrivant, pour chaque mesure, la valeur de N.

b - En comparant les valeurs de N à celles de N_e , préciser la nature, libres ou forcées, des oscillations de (S).

3 - On fait varier la fréquence N_e de la force excitatrice, on mesure à chaque fois l'amplitude X_{\max} des oscillations puis on en déduit l'amplitude V_{\max} de la vitesse instantanée.

Ce qui a permis de tracer les courbes (C₁) et (C₂) de la figure - 7 - traduisant les variations de $X_{\max} = f(N)$ et $V_{\max} = g(N)$.

et $V_{\max} = g(N)$.

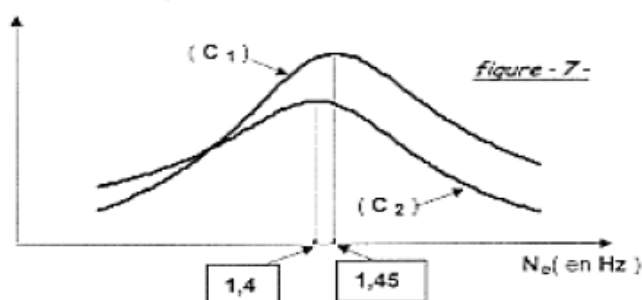


figure - 7 -

a - Détermination expérimentale de X_{\max} :

Lorsque $N_e = 1,2 \text{ Hz}$ l'index oscille entre les deux graduations 43 mm et 93 mm de la règlette.

En déduire la valeur de X_{\max} correspondant à cette fréquence.

b - La fréquence N_r de la force excitatrice correspondante à la résonance d'amplitude (ou résonance d'élongation) vérifie la relation $N_r^2 = N_0^2 - \frac{h^2}{8\pi^2 m^2}$.

Préciser, en le justifiant, laquelle des deux courbes (C₁) ou (C₂) correspond à $X_{\max} = f(N)$.

c - Relever à partir de la figure - 7 - :

- la valeur de N_0 et la comparer à celle trouvée à la question 1 - b ; déterminer alors la valeur de K sachant que $m = 0,22 \text{ Kg}$.
- la valeur de N_r ; calculer celle de h.

4 - L'élongation instantanée $x(t) = X_{\max} \sin(2\pi N_e t + \varphi_x)$ de G est une solution de l'équation différentielle :

$$m \frac{d^2 x(t)}{dt^2} + h \frac{dx(t)}{dt} + kx(t) = F(t) \quad (1)$$

Sur la figure - 8 - de la page - 5/5 - à remplir par le candidat et à remettre avec la copie est représenté le vecteur de Fresnel \vec{OA} associé à la fonction $h \cdot \frac{d^2 x(t)}{dt^2}$ lorsque $N_e = 1,2 \text{ Hz}$.

- a - Compléter la construction de Fresnel relative à l'équation (1) en traçant sur la figure - 8 - et dans l'ordre suivant les vecteurs \vec{AB} et \vec{BC} correspondant respectivement aux fonctions $K \cdot x(t)$ et $m \cdot \frac{d^2 x(t)}{dt^2}$.
- b - En déduire la valeur de F_{\max} et celle de la phase à l'origine φ_x exprimée en degré.

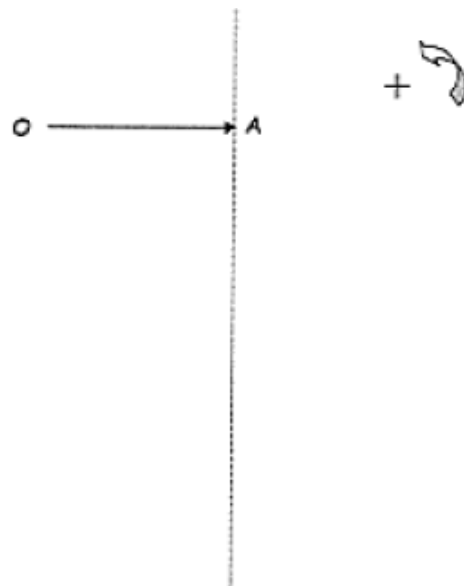


figure - 8 -

Echelle :

