

EX 201

1°/ La surface du liquide en observe des rides circulaires qui se propage de la pointe (S1) sans se déformer.
 • En s'éloignant de la source il y a dilution d'énergie ce qui prouve que les rides circulaires sont plus net au voisinage de la source S1

$$\Delta \varphi = \varphi_S - \varphi_M = \frac{2\pi r}{\lambda} = \frac{2\pi \times 16}{8} = 4\pi \text{ de la forme } 2k\pi$$

courbe :

$$x_M - x_S = 16 \text{ cm} = 2\lambda$$

⇒ donc S et M vi bient en phase.

2°/ D'après le principe de propagation

$$y_M(t, d) = y_S(t - \theta) \text{ avec } \theta = \frac{d}{v} \text{ avec } t \gg \theta$$

$$= a \sin(\omega(t - \theta) + \varphi_S) \text{ avec } \varphi_S = \pi \text{ mod } 2\pi$$

$$= 2a \sin\left(\omega t - \frac{2\pi}{T} \cdot \frac{d}{v} + \pi\right)$$

$$= 2 \cdot 10^{-3} \sin(200\pi t - \frac{2\pi d}{\lambda} + \pi)$$

$$= 2 \cdot 10^{-3} \sin(200\pi t - \frac{2\pi d}{8 \cdot 10^3} + \pi) \text{ avec } t \gg \frac{d}{v}$$

$$\bullet t \gg \frac{d}{v} \text{ avec } \lambda = v \cdot T = \frac{v}{N} \Leftrightarrow v = \lambda \times N = 8 \cdot 10^3 \times 100 = 8 \cdot 10^5 \text{ m/s}$$

$$\text{donc } t \gg \frac{1}{0,8} \cdot d = 1,25 \cdot d$$

$$\text{donc } y_M(t, d) = 2 \cdot 10^{-3} \sin(200\pi t - 250\pi d + \pi) \quad \forall t \gg 1,25d$$

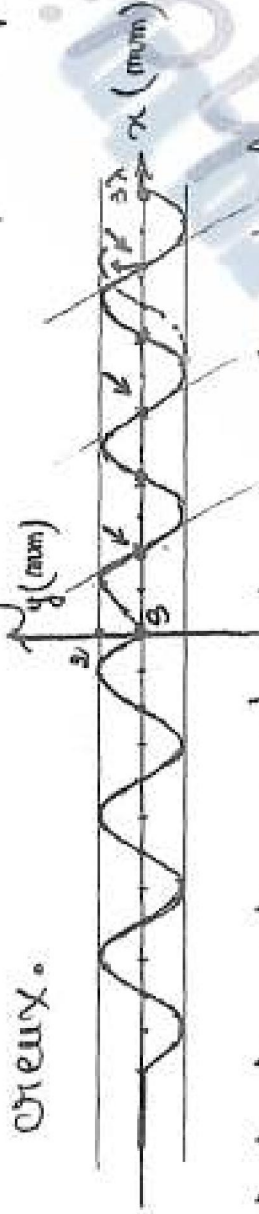
www.BAC.org.tn
Page: BAC-TUNISIE
Tél: 25 361 197 / 53 371 502

b) distance parcourue par l'onde.

$$\frac{x_p}{\lambda} = \frac{41}{1} = 3.10^2 \times 100 = 3.$$

$$x_p = 3\lambda.$$

• $\varphi_s = \pi \text{ rad}$ donc le front d'onde est en phase de 2π avec S_1 ou S_2 .



c) les points qui vibrent en opposition de phase avec S_1

$$\Delta\varphi = \varphi_s - \varphi_H = \frac{2\pi x}{\lambda} = \pi + 2k\pi \quad (k \in \mathbb{Z})$$

$$x = (2k+1)\lambda \cdot \frac{\lambda}{2\lambda}$$

$$x = (k + \frac{1}{2})\lambda. \quad \text{or } 0 \leq x \leq 3\lambda$$

$$0 \leq (k + \frac{1}{2})\lambda \leq 3\lambda$$

$$0 \leq k + \frac{1}{2} \leq 3 \Leftrightarrow -\frac{1}{2} \leq k \leq 2,5$$

$$k \in \{0, 1, 2\}$$

$$x = 8(k + \frac{1}{2}) \text{ mm}$$

k	0	1	2
$x(\text{mm})$	4	12	20

vérifié
graphiquement

Ce sont des points appartenant à 3 cercles concentriques en

S de rayons respectifs 4 mm, 12 mm et 20 mm

b) pour ces points on a $\frac{dy}{dx} < 0$ donc $\frac{dy}{dx} > 0 \Rightarrow v > 0$

donc ces points se dirigent vers le haut c'est dans le sens ascendant

$$H^2 / T^2 = \frac{N}{Ne}$$

$$* \frac{N}{Ne} = \frac{100}{100} = 1 \text{ entier}$$

on observe des rides circulaires centre S_1 immobiles

$$* \frac{N}{Ne} = \frac{100}{49} = 2,04$$

on observe légèrement supérieur à 2 donc on observe des rides circulaires qui se propagent en traversant dans le sens réel.

EX N° 2 (P. Science 2011)

1°) a)

La longueur d'onde λ est la distance parcourue par l'onde pendant une période temporelle T .

$$b) \cdot a = 5 \cdot 10^{-3} \text{ m}$$

$$\cdot \lambda = 16 \cdot 10^{-3} \text{ m}$$

Le front d'onde est perpendiculaire à l'axe de propagation donc la source des butes son mouvement est en allant dans le sens opposé à celui de la propagation.

$$2^{\circ}) a) \cdot v_1 = \frac{\lambda}{T} = \frac{24 \cdot 10^{-2}}{12 \cdot 10^{-3}} = 20 \text{ m/s}$$

$$\cdot \lambda = v_1 T \Rightarrow T = \frac{\lambda}{v_1} = \frac{16 \cdot 10^{-2}}{20}$$

$$T = 8 \cdot 10^{-3} \text{ s}$$

$$b) d_1 = x_1$$

$$\frac{2x_1}{\lambda} = \frac{u}{16} = 15$$

$$d_1 = 15\lambda$$

Car $d_1 = x_1 = \lambda + \frac{\lambda}{2}$: le point M_1 vibre en opposition de phase avec la source (S).

$$\Delta \varphi = \varphi_{M_1} - \varphi_S = \pi \text{ rad}$$

$$\text{or } \varphi_S = \pi \text{ rad}$$

$$\text{donc } \varphi_{M_1} = 2\pi \text{ rad} \Rightarrow \varphi_{M_1} = 0$$

$$c) \theta_1 = \frac{x_1}{v_1} = \frac{0,24}{20} = 0,012 \text{ s}$$

$$\frac{\theta_1}{T} = \frac{0,012}{8 \cdot 10^{-3}} = 1,5$$

$$\theta_1 = 1,5 T$$

$$\begin{aligned} -y_{M_1}(t) &= y_{S_1}(t - \theta_1) \\ &= 5 \cdot 10^{-3} \sin(250\pi(t - \theta_1) + \pi) \\ &= 5 \cdot 10^{-3} \sin(250\pi(t - 0,012) + \pi) \\ &= 5 \cdot 10^{-3} \sin(250\pi t - 3\pi + \pi) \end{aligned}$$

$$\begin{cases} y_{M_1}(t) = 5 \cdot 10^{-3} \sin(250\pi t + \pi) \\ y_{M_2}(t) = 0 \quad \text{pour } 0 \leq t \leq 1,5 T \end{cases}$$

$$3^{\circ}) x_1 = v_1 \cdot t_0 = 48 \cdot 10^{-2} \text{ m}$$

$$t_0 = \frac{x_1}{v_1} = \frac{48 \cdot 10^{-2}}{20} = 24 \cdot 10^{-3} \text{ s}$$

$$b) \frac{t_2}{T} = 1,5$$

$$t_2 = 1,5 T$$

$$x_1 = v_1 \cdot t_2 = 48 \cdot 1,5 T = 1,5 \lambda$$

$$x_2 = 3\lambda + 1,5\lambda$$

$$x_2 = 4,5\lambda$$

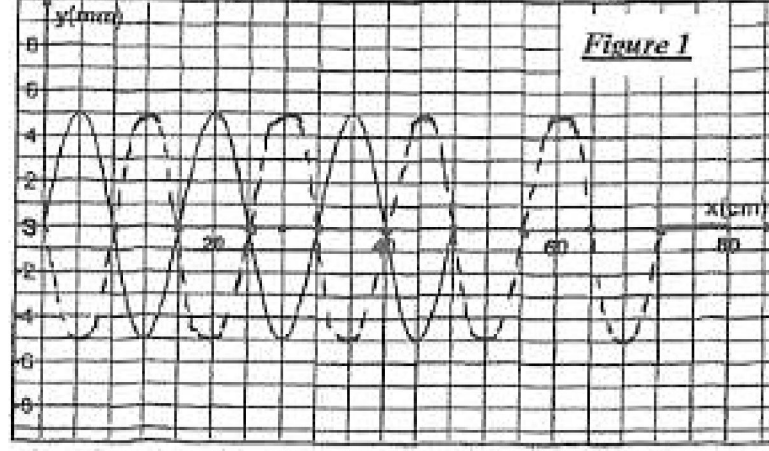


Figure 1

EXN°3

$$1^{\circ} \omega = 2\pi N = 200\pi \text{ rad/s}$$

$$N = 100 \text{ Hz}$$

$$\bullet \lambda = v \cdot T = \frac{v}{N} = \frac{10}{100} = 0,1 \text{ m}$$

e) Dans le principe de superposition, le pt P repro duit le mv de (S) après un retard horaire $\Theta = \frac{x}{v}$

$$\begin{aligned} y_H(t, x) &= y_S(t - \Theta) \quad / \quad \Theta = \frac{x}{v} \\ &= 4 \cdot 10^{-3} \sin(200\pi(t - \Theta) + \pi) \\ &= 4 \cdot 10^{-3} \sin\left(200\pi t - \frac{200\pi x}{v} + \pi\right) \\ &= 4 \cdot 10^{-3} \sin\left(200\pi t - \frac{200\pi x}{0,1} + \pi\right) \\ &= 4 \cdot 10^{-3} \sin(200\pi t - 2000\pi x + \pi) \end{aligned}$$

b) 1^{re} methode $d = x_B - x_A = 20 \text{ cm} = 2 \lambda$

$\Delta \varphi = 2k\pi \Rightarrow$ dou. Act B vibrent en phase

2) a) $x_P = v \cdot t_1 \Rightarrow t_1 = \frac{x_P}{v} = \frac{22,5 \cdot 10^{-2}}{10} = 22,5 \cdot 10^{-3} \text{ s}$

b) graphiquement: il ya 4 pts

par cas

$$\begin{aligned} y_H(x) &= 4 \cdot 10^{-3} \sin\left(\frac{415\pi}{200\pi \times 22,5 \cdot 10^{-3} - 200\pi x + \pi}\right) \\ y_H(x) &= 4 \cdot 10^{-3} \sin\left(-\frac{\pi}{2} - 200\pi x\right) \\ y_H(x) &= 4 \cdot 10^{-3} \sin\left(200\pi x - \frac{\pi}{2}\right) \quad \forall x \leq \frac{v}{2} \end{aligned}$$

$$y_N(x) = \frac{2}{\lambda}$$

$$\sin\left(20\pi x - \frac{\pi}{2}\right) = \frac{2}{\lambda} \Rightarrow \sin\left(20\pi x - \frac{\pi}{2}\right) = \frac{1}{2}$$

$$\left\{ \begin{array}{l} 20\pi x - \frac{\pi}{2} = \frac{\pi}{6} + 2k\pi \\ 20\pi x - \frac{\pi}{2} = \pi - \frac{\pi}{6} + 2k\pi \end{array} \right.$$

$$\left\{ \begin{array}{l} 20\pi x = \frac{2\pi}{3} + 2k\pi \\ 20\pi x = \frac{4\pi}{3} + 2k\pi \end{array} \right. \Rightarrow x = \left(\frac{2}{3} + 2k\pi\right) \frac{1}{20\pi}$$

$$\Rightarrow x = \left(\frac{4}{3} + 2k\pi\right) \frac{1}{20\pi}$$

$$\Rightarrow x = \left(\frac{4}{3} + 2k\pi\right) \cdot \frac{1}{20\pi}$$

$$\left\{ \begin{array}{l} x = \frac{k}{10} + \frac{1}{30} \\ x = \frac{k}{10} + \frac{1}{15} \end{array} \right. \quad \text{or} \quad 0 \leq x \leq 1,5 ; k \in \mathbb{Z}$$

$$\left\{ \begin{array}{l} x = \frac{k}{10} + \frac{1}{30} \\ x = \frac{k}{10} + \frac{1}{15} \end{array} \right.$$

$$* \quad 0 \leq \frac{k}{10} + \frac{1}{30} \leq 0,225 \text{ m}$$

$$-\frac{1}{30} \leq \frac{k}{10} \leq 0,225 - \frac{1}{30}$$

$$-\frac{1}{3} \leq k \leq 1,9$$

k	0	1
x (m)	$\frac{1}{30}$	$\frac{2}{15}$

$$0 \leq \frac{k}{10} + \frac{1}{15} \leq 0,225$$

$$-\frac{1}{15} \leq \frac{k}{10} \leq 0,225 - \frac{1}{15}$$

$$-\frac{10}{15} \leq k \leq 1,5$$

$$-0,67 \leq k \leq 1,5$$

k	0	1
x (m)	$\frac{1}{15}$	$\frac{4}{6}$

il y a 4 pts d'abscisse respectives $3,33 \cdot 10^{-2} \text{ m}$; $6,66 \cdot 10^{-2} \text{ m}$,

$13,33 \cdot 10^{-2} \text{ m}$; $16,66 \cdot 10^{-2} \text{ m}$

c/ L'abscisse $x_1 = 3,33 \text{ cm}$ de N est de la forme .

$$x = \frac{d}{30} + \frac{k}{10} \quad \text{avec } k = 0$$

\Rightarrow le point vibrant en phase avec N₁ est le point N₂

$$\text{d'abscisse } x_2 = \frac{d}{30} + \lambda = 13,33 \text{ cm}$$

Fin

EX N°4

1°/a) on appelle on dit le phénomène résultant de la propagation d'une succession d'ébranlements dans un milieu donné.

b) L'onde est transversale car la direction de propagation est perpendiculaire à celle de la déformation.

c) la palette de carton empêche toute réflexion d'onde.

$$2) \text{a) } \lambda = 0,2 \text{ m} = 20 \text{ cm}$$

$$\left. \begin{array}{l} \text{b) on a } x_1 f = v \cdot t_a \\ x_2 f = v \cdot t_b \end{array} \right\} \Rightarrow x_2 f - x_1 f = v(t_b - t_a)$$

$$v = \frac{x_2 f - x_1 f}{t_b - t_a} = \frac{0,6 - 0,4}{0,02}$$

$$v = 100 \text{ m/s}^1$$

$$* \lambda = v \cdot T = \frac{v}{N} \Rightarrow N = \frac{v}{\lambda} = \frac{100}{0,2} = 500 \text{ Hz}$$

$$c) x_1 f = v \cdot t_a \Rightarrow t_a = \frac{x_1 f}{v} = \frac{0,4}{100} = 0,004 \text{ s}$$

$$x_2 f = v \cdot t_b \Rightarrow t_b = \frac{x_2 f}{v} = \frac{0,6}{100} = 0,006 \text{ s}$$

3°/ D'après le principe de Huygens-Fresnel

$$y_H(t, x) = y_s(t - \theta) \quad \text{avec } \theta = \frac{x}{v}$$

$$= 3 \cdot 10^{-3} \sin(2\pi N(t - \theta) + \varphi_s)$$

$$= 3 \cdot 10^{-3} \sin(2\pi Nt - \frac{2\pi}{\lambda} \cdot x + \varphi_s)$$

$$= 3 \cdot 10^{-3} \sin(1000t - \frac{2\pi}{0,2} x + \varphi_s)$$

$$y_H(t, x) = 3 \cdot 10^{-3} \sin(1000t - 10\pi x + \varphi_s) \quad v \geq \theta$$

↳ La front d'onde est prise côté d'un creux car d la source
 (s) débute son mouvement $\phi = 0$ en allant dans le sens
 négatif des x longitudes
 donc $\phi_s = \pi \text{ rad}$

cou brieu. $\phi = \omega t = a = 4 \cdot 10^{-2} \text{ A}$

pour $x = 0 \quad \begin{cases} y = 0 \\ \frac{dy}{dx} > 0 \end{cases}$

$$0 = a \sin(100\pi \cdot 4 \cdot 10^{-2} - \omega t + \phi_s)$$

$$\sin \phi_s = 0 \quad \begin{cases} \phi_s = 0 \\ \phi_s = \pi \end{cases}$$

$$\left(\frac{dy}{dx}\right)_{t=0} = -100\pi a \cos(100\pi \cdot 4 \cdot 10^{-2} + \phi_s)$$

$-100\pi a \cos \phi_s > 0$ donc $\cos \phi_s < 0$

$$\phi_s = \pi \text{ rad}$$

$\% \quad x_p = v \cdot t_f$ avec $x_p = \lambda = 1 \text{ m}$

$$t_f = \frac{x_p}{v} = \frac{\lambda}{100} = 0,01 \text{ s}$$

$$\% \quad \phi_p - \phi_s = -\frac{\pi}{2} + 2k\pi$$

$$-100\pi x + \phi_s - \phi_s = -\frac{\pi}{2} + 2k\pi$$

$$x = \frac{\lambda}{200} - \frac{k}{5} \quad k \in \mathbb{Z}$$

(m)

or $0 \leq x \leq 1 \text{ m}$

$$0 \leq \frac{\lambda}{200} - \frac{k}{5} \leq 1$$

$$-\frac{\lambda}{200} \leq -\frac{k}{5} \leq 1 - \frac{\lambda}{200}$$

$$-\frac{5}{20} \leq -k \leq 5 - \frac{5}{20}$$

$$-4,75 \leq k \leq 0,25$$

$$k \in \{-4, -3, -2, -1, 0\}$$

il y a 5 points d'abscisses respectives

$$x_1 = \frac{\lambda}{200} = 0,05 \text{ m}$$

$$x_2 = \frac{\lambda}{200} + \frac{\lambda}{5} = 0,25 \text{ m}$$

$$x_3 = \frac{\lambda}{200} + \frac{2\lambda}{5} = 0,45 \text{ m}$$

$$x_4 = \frac{\lambda}{200} + \frac{3\lambda}{5} = 0,65 \text{ m}$$

$$x_5 = \frac{\lambda}{200} + \frac{4\lambda}{5} = 0,85 \text{ m}$$

Fin

EX 025

1) en lumière microscopique pour $N_{e \text{ max}}$

La surface de l'eau parcourt un mobile avec des crêtes circulaires concentriques alternées par des creux de même forme.

b) L'immobilité apparente

se manifeste si $\frac{V_e}{T} = \frac{N_e}{N_e}$

$$N_e = \frac{N}{k}$$

N_e est max $\Rightarrow k_{\text{min}} = 1$

donc $N = N_e = 20 \text{ Hz}$

2) a) H_1 de bas - son mouvement

de l'onde à $t_1 = \frac{3T}{4}$

$$y_{M_1}(t) = a \sin(\omega t + \varphi_{M_1})$$

avec $a = 2 \cdot 10^{-3} \text{ m}$

$$\omega = 2\pi N = 40\pi \text{ rad/s}$$

$$\text{à } t = \frac{3T}{4} = \frac{3T}{2}$$

$$y_{M_1} = -a$$

$$\Rightarrow a = -a \sin\left(\frac{2\pi \cdot 3T}{2} + \varphi_{M_1}\right)$$

$$\sin(\pi + \varphi_{M_1}) = 1$$

$$\pi + \varphi_{M_1} = \frac{\pi}{2} \Leftrightarrow \varphi_{M_1} = -\frac{\pi}{2} \text{ rad}$$

$$\Rightarrow y_{M_1}(t) = 2 \cdot 10^{-3} \sin\left(40\pi t - \frac{\pi}{2}\right)$$

$$\text{pour } t \geq \frac{5T}{4}$$

$$y_{M_2}(t) = y_s(t - \theta_1) \Rightarrow y_s(t) = y_M(t + \theta_1)$$

$$y_0(t) = 2 \cdot 10^{-3} \sin\left(40\pi\left(t + \frac{5T}{4}\right) - \frac{\pi}{2}\right)$$

$$y_0(t) = 2 \cdot 10^{-3} \sin\left(40\pi t + \frac{2\pi \cdot 5T}{4} - \frac{\pi}{2}\right)$$

$$= 2 \cdot 10^{-3} \sin(40\pi t + 5\pi)$$

$$y_0(t) = 2 \cdot \sin(40\pi t) \quad \forall t \geq 0$$

$$b) \theta_1 = \frac{v}{v} = \frac{v}{\frac{5T}{4}}$$

$$v = \frac{v}{\theta_1} = \frac{1,25 \cdot 10^{-2}}{\frac{5T}{4}}$$

$$= \frac{1,25 \cdot 10^{-2} \times 4}{5 \cdot 1}$$

$$v = 0,2 \text{ m/s}$$

$$c) \lambda = v \cdot T = \frac{v}{N} = \frac{0,2}{20}$$

$$\lambda = 0,01 \text{ m}$$

3) a) à t_1 le fond d'onde à parvenu la distance

$$d = 3\lambda + \frac{\lambda}{4} = 3\lambda$$

$$\text{or } 3\lambda = v \cdot t_1$$

$$t_1 = \frac{3\lambda}{v} = \frac{3 \cdot 25 \cdot 0,01}{0,2}$$

$$t_1 = 16,25 \cdot 10^{-2} \text{ s}$$

b) H_1 et H_2 vibrent en opposition de phase car H_2 appartient

à une crête et H_3 appartient

à un creux

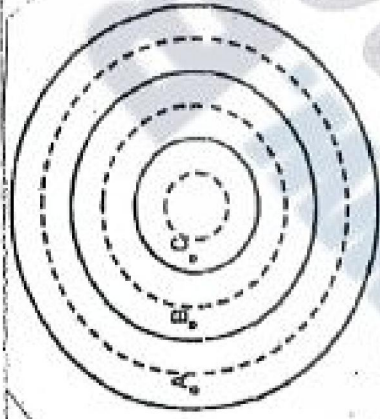
c) Les points M de la surface libre de l'eau qui vibrent et l'instant M en qu'on détermine l'avance de phase par rapport au point M₀ sont des cercles de centre O et de rayons

$$r_1 = \frac{3a}{4}$$

$$r_2 = \frac{7a}{4}$$

$$r_3 = \frac{11a}{4}$$

d) Les lieux des points sont les cercles centrés sur O et passant par les points A, B et C.



Fin

EX 6 (Concours 2013 H-G1)

1) le phénomène résultant de

la propagation

homonéale, par la direction

de propagation est perpendiculaire

à celle de la déformation

2) a) En lumière ordinaire

on observe une bande

rectangulaire floue de largeur

double de l'amplitude de vibration

(2a)

b) En lumière stroboscopique

pour une période T légèrement

supérieure à la période T du

vibreur, on observe une progression

lente d'une sinusoïde dans le

sens réel de propagation de l'onde

3) La courbe (II) correspond

au diagramme de mouvement

du point A de la corde située

à la distance x_A de A

• L'aspect de la corde s'un

instant t_1 fixe est donné par

la courbe (I)

$$T = 4 \times 2 \cdot 10^{-3} = 8 \cdot 10^{-3} \text{ s}$$

$$\lambda = 4 \times 5 \cdot 10^{-2} = 20 \cdot 10^{-2} \text{ m} = 0,2 \text{ m}$$

$$a = 2 \cdot 10^{-3} \text{ m}$$

$$4) \lambda = v \cdot T$$

$$v = \frac{\lambda}{T} = \frac{0,2}{8 \cdot 10^{-3}} = 25 \text{ m/s}$$

• retard

$$\theta = \frac{x_A}{v} \Leftrightarrow x_A = \theta \cdot v$$

$$= 10 \cdot 10^{-3} \cdot 25$$

$$x_A = 25 \cdot 10^{-2} \text{ m}$$

$$x_A = 0,25 \text{ m}$$

$$\cdot x_F = v \cdot t_1$$

$$t_1 = \frac{x_F}{v} = \frac{8 \times 5 \cdot 10^{-2}}{25} = 16 \cdot 10^{-3}$$

$$5) y_A(t) = a \sin(\omega t + \phi_A) \quad \forall t \geq 0$$

$$\cdot \omega = \frac{2\pi}{T} = 250\pi \text{ rad/s}$$

$$\cdot \phi = 1,5\pi ; y_A = a$$

$$a = 2 \sin\left(\frac{2\pi \cdot 4\pi \cdot \phi_A}{T}\right)$$

$$\sin(3\pi + \phi_A) = 1$$

$$\sin(\pi + \phi_A) = 1$$

$$\pi + \phi_A = \frac{\pi}{2} \Leftrightarrow \phi_A = -\frac{\pi}{2} \text{ rad}$$

$$y_A(t) = 2 \cdot 10^{-3} \sin(250\pi t - \frac{\pi}{2})$$

$$\forall t \geq 10^{-2} \text{ s}$$

$$\cdot y_A(t) = y_S(t - \theta_A) \Leftrightarrow y_S(t) = y_A(t + \theta_A)$$

$$y_S(t) = 2 \cdot 10^{-3} \sin(250\pi(t + \theta_A) - \frac{\pi}{2})$$

$$= 2 \cdot 10^{-3} \sin(250\pi t + 20 \cdot 10^{-2} \pi - \frac{\pi}{2})$$

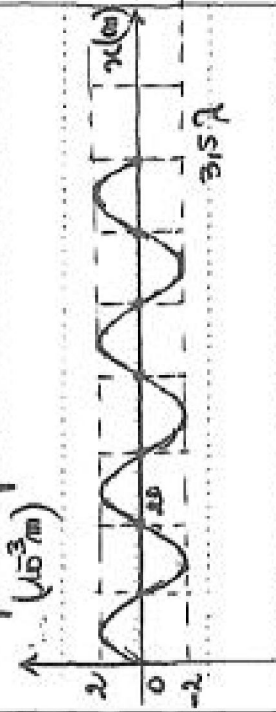
$$y_S(t) = 2 \cdot 10^{-3} \sin(250\pi t) \quad \text{avec } t \geq 0$$

$$6) x_F = v \cdot t_2 = 25 \times 2,8 \cdot 10^{-2} = 0,7 \text{ m}$$

$$\frac{x_F}{\lambda} = \frac{0,7}{0,2} = 3,5$$

$$\lambda_F = 3,5 \lambda$$

$\varphi_B = 0$ rad : le front d'onde est
est positif pour une crête



7°) la distance parcourue par S

est $d = (3,5 \times \lambda) \times \omega$

$$d = 14 \omega$$

$$d = 14 \times 2 \cdot 10^3$$

$$d = 28 \cdot 10^3 \text{ m}$$

Fin

EX 7 (Concours 2013 G2)

I/12) car elle est due à un ébranlement mécanique

22) Transverse car la direction de l'ébranlement est perpendiculaire à la direction de propagation

32) la diminution de l'amplitude est due à la dilution de l'énergie

42) la distance parcourue par l'onde pendant une période temporelle T

5) La célérité reste inchangée car le milieu est non dispersif

• λ varie

$$\lambda' = \frac{v}{N'} = \frac{v}{2N} = \frac{\lambda}{2}$$

II/1) a) $\lambda = 2 \text{ cm}$

b) $\lambda = v \cdot T = \frac{v}{N}$

$$v = \lambda \times N = 0,02 \times 25 = 0,5 \text{ m/s}$$

c) $\Delta x = v \cdot t_1 \Rightarrow t_1 = \frac{\Delta x}{v}$

$$t_1 = \frac{6 \cdot 10^{-2}}{0,5} = 0,12 \text{ s}$$

d) y_1, y_2, y_3 amplitudes de points situés sur les cercles de rayons

$$r_1 = \frac{3a}{4}; r_2 = \frac{7a}{4}; r_3 = \frac{11a}{4}$$

$$r_4 = \frac{15a}{4}$$

d'elongations respectives

$$y_1 = -a; y_2 = a; y_3 = a; y_4 = 0$$

21) $\Delta x = v \cdot \Delta t$

$$\Delta x = v(t_2 - t_1)$$

$$\Delta x = v(0,1 - 0,12) = -0,2$$

31) a) $y_s(t) = a \sin(\omega t + \phi_0) \quad \forall t \geq 0$
avec $a = 2 \cdot 10^{-3} \text{ m}$

• $\omega = 2\pi N = 50\pi \text{ rad/s}$

• Le front d'onde est prisé pour une célérité $c_0 = 0 \text{ rad}$

$$\Rightarrow y_s(t) = 2 \cdot 10^{-3} \sin(50\pi t) \quad \forall t \geq 0$$

b) D'après le principe de propagation des ondes

$$y_H(t, x) = y_s(t - \theta) \quad \text{avec } \theta = \frac{r}{v}$$

$$= 2 \cdot 10^{-3} \sin(50\pi(t - \theta))$$

$$= 2 \cdot 10^{-3} \sin(50\pi t - 50\pi \theta)$$

$$= 2 \cdot 10^{-3} \sin(50\pi t - \frac{r}{0,5})$$

$$y_H(t, x) = 2 \cdot 10^{-3} \sin(50\pi t - 100\pi r) \quad \forall t \geq \theta$$

e) $\theta_1 = \frac{r_1}{v} = \frac{3 \cdot 10^{-2}}{0,5} = 0,06 \text{ s}$

• $\frac{\theta_1}{T} = \theta_1 \times N = 1,5$

$$\theta_1 = 1,5 \cdot T$$

$$y_{H1}(t) = 2 \cdot 10^{-3} \sin(50\pi t - 100\pi \times 3 \cdot 10^{-2})$$

$$= 2 \cdot 10^{-3} \sin(50\pi t - 3\pi)$$

$$= 2 \cdot 10^{-3} \sin(50\pi t - \pi)$$

$$\forall t \geq 1,5 T$$