

Exercice 1

L'espace est rapporté à un repère orthonormal direct $(O, \vec{i}, \vec{j}, \vec{k})$.

On considère les points $A(-2; 0; 1)$, $B(1; 2; -1)$ et $C(-2; 2; 2)$.

- Calculer le produit scalaire $\overrightarrow{AB} \cdot \overrightarrow{AC}$ puis les longueurs AB et AC.
 - En déduire une valeur approchée arrondie au degré près de l'angle \widehat{BAC} .
 - En déduire que les points A, B et C ne sont pas alignés.
- Vérifier qu'une équation cartésienne du plan (ABC) est : $2x - y + 2z + 2 = 0$.
- Soient \mathcal{P}_1 , et \mathcal{P}_2 les plans d'équations respectives $x + y - 3z + 3 = 0$ et $x - 2y + 6z = 0$.

Montrer que les plans \mathcal{P}_1 et \mathcal{P}_2 sont sécants selon une droite \mathcal{D} dont un système d'équations

$$\text{paramétriques est } \begin{cases} x = -2 \\ y = -1 + 3t \\ z = t \end{cases}, t \in \mathbb{R}.$$

- Démontrer que la droite \mathcal{D} et le plan (ABC) sont sécants et déterminer les coordonnées de leur point d'intersection.
- Soit \mathcal{S} la sphère de centre $\Omega(1; -3; 1)$ et de rayon $r = 3$.
 - Donner une équation cartésienne de la sphère \mathcal{S} .

Dans les deux questions suivantes, toute trace de recherche, même incomplète, ou d'initiative même non fructueuse, sera prise en compte dans l'évaluation.

- Étudier l'intersection de la sphère \mathcal{S} et de la droite \mathcal{D} .
- Démontrer que le plan (ABC) est tangent à la sphère \mathcal{S} .

Exercice 2

Dans l'espace muni d'un repère orthonormal $(O, \vec{i}, \vec{j}, \vec{k})$, on considère :

- les points $A(1; 1; 1)$ et $B(3; 2; 0)$;
- le plan (P) passant par le point B et admettant le vecteur \overrightarrow{AB} pour vecteur normal;
- le plan (Q) d'équation : $x - y + 2z + 4 = 0$;
- la sphère (S) de centre A et de rayon AB.

- Montrer qu'une équation cartésienne du plan (P) est : $2x + y - z - 8 = 0$
- Déterminer une équation de la sphère (S).
- Calculer la distance du point A au plan (Q).
En déduire que le plan (Q) est tangent à la sphère (S).
 - Le plan (P) est-il tangent à la sphère (S) ?
- On admet que le projeté orthogonal de A sur le plan (Q), noté C, a pour coordonnées $(0; 2; -1)$.
 - Prouver que les plans (P) et (Q) sont sécants.
 - Soit (D) la droite d'intersection des plans (P) et (Q).

Montrer qu'une représentation paramétrique de la droite (D) est :

$$\begin{cases} x = t \\ y = 12 - 5t \\ z = 4 - 3t \end{cases} \text{ avec } t \in \mathbb{R}.$$

- Vérifier que le point A n'appartient pas à la droite (D)
- On appelle (R) le plan défini par le point A et la droite (D).
L'affirmation suivante est-elle vraie ou fausse ?
« Tout point du plan (R) est équidistant des points B et C ».
Justifier votre réponse.

Exercice 3

On se propose dans cet exercice, d'étudier des propriétés d'un solide de l'espace.

L'espace est rapporté à un repère orthonormal $(O, \vec{i}, \vec{j}, \vec{k})$.

On considère les points $A(3; 4; 0)$; $B(0; 5; 0)$ et $C(0; 0; 5)$. On note I le milieu du segment $[AB]$.

1. Faire une figure où l'on placera les points A, B, C, I dans le repère $(O, \vec{i}, \vec{j}, \vec{k})$.

2. Démontrer que les triangles OAC et OBC sont rectangles et isocèles.

Quelle est la nature du triangle ABC ?

3. Soit H le point de coordonnées $(\frac{15}{19}; \frac{45}{19}; \frac{45}{19})$.

a. Démontrer que les points H, C, I sont alignés.

b. Démontrer que H est le projeté orthogonal de O sur le plan (ABC) .

c. En déduire une équation cartésienne du plan ABC .

4. Calculs d'aire et de volume.

a. Calculer l'aire du triangle OAB . En déduire le volume du tétraèdre $OABC$.

b. Déterminer la distance du point O au plan (ABC) .

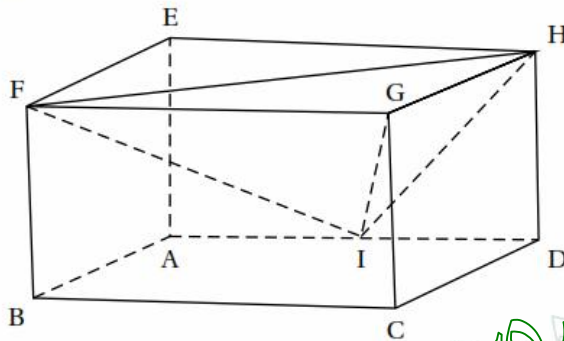
c. Calculer l'aire du triangle ABC .

Exercice 4

Une unité de longueur étant choisie dans l'espace, on considère un pavé droit

$ABCDEFGH$ tel que : $AB = 1, AD = 2$ et $AE = 1$.

On appelle I le milieu de $[AD]$.



Exercice 5

L'espace est rapporté à un repère orthonormé

direct $(O, \vec{i}, \vec{j}, \vec{k})$.

On considère les points $A(1,0,0)$, $B(0,1,0)$ et $C(0,0,2)$.

1) Le vecteur $\overrightarrow{OB} \wedge \overrightarrow{OC}$ est égal à

a/ \overrightarrow{OA} b/ $2\overrightarrow{OA}$ c/ $-2\overrightarrow{OA}$.

2) Le réel $\frac{1}{6}(\overrightarrow{AB} \wedge \overrightarrow{AO}) \cdot \overrightarrow{AC}$ est égal à

a/ 0 b/ $\frac{1}{3}$ c/ 2.

3) La droite (BC) est l'intersection des plans d'équations

a/ $x = 1$ et $2y + z - 2 = 0$.

b/ $x = 0$ et $y + 2z - 1 = 0$.

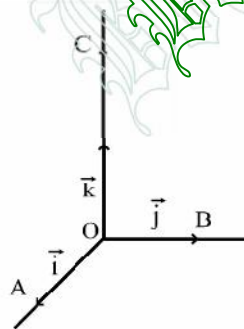
c/ $x = 0$ et $2y + z - 2 = 0$.

4) Une équation de la sphère de centre O et tangente au plan (ABC) est

a/ $x^2 + y^2 + z^2 = 1$.

b/ $x^2 + y^2 + z^2 = \frac{4}{9}$.

c/ $x^2 + y^2 + z^2 - 2x = \frac{4}{9}$.



Exercice 6

L'espace est muni du repère orthonormé $(A; \overrightarrow{AB}; \overrightarrow{AI}; \overrightarrow{AE})$.

- Déterminer, dans le repère choisi, les coordonnées des points E, G, H.
- Montrer que le volume V du tétraèdre GFHI est égal à $\frac{1}{3}$.
 - Montrer que le triangle FIH est rectangle en I.
En exprimant V d'une autre façon, calculer la distance d du point G au plan (FIH).
- Soit le vecteur \vec{n} de coordonnées $(2; 1; -1)$.
 - Montrer que le vecteur \vec{n} est normal au plan (FIH).
 - En déduire une équation cartésienne du plan (FIH).
 - Retrouver par une autre méthode la distance d du point G au plan (FIH).
- La droite (AG) est-elle perpendiculaire au plan (FIH)?
 - Donner un système d'équations paramétriques de cette droite.
 - Déterminer les coordonnées du point d'intersection K de (AG) et de (FIH).
- Dans cette question, toute trace de recherche, même incomplète, ou d'initiative même infructueuse sera prise en considération dans l'évaluation.
Soit Γ la sphère de centre G passant par K.
Quelle est la nature de l'intersection de Γ et du plan (FIH)? On demande de préciser les éléments caractérisant cette intersection

Exercice 7

L'espace est rapporté à un repère orthonormé direct $(O, \vec{i}, \vec{j}, \vec{k})$.
On considère les points $A(2, 0, 0)$, $B(0, 4, 0)$ et $C(0, 0, 4)$ et on désigne par I et J les milieux respectifs des segments $[AB]$ et $[BC]$.

1) Déterminer les coordonnées des points I et J.

2) Soit P l'ensemble des points M de l'espace vérifiant $MI = MJ$.

a/ Montrer que P est le plan d'équation $2x - 4z + 3 = 0$.

b/ Montrer que la droite (OC) et le plan P sont sécants en un point K que l'on précisera.

3) Soit S l'ensemble des points $M(x, y, z)$ de l'espace tels que

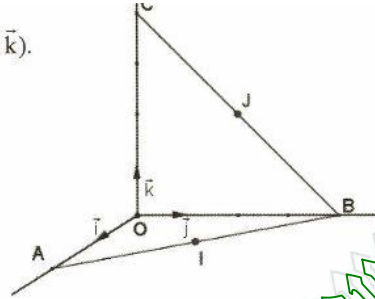
$$x^2 + y^2 + z^2 - \frac{3}{2}z - 5 = 0.$$

a/ Montrer que S est une sphère dont on déterminera le centre et le rayon.

b/ Vérifier que les points I et J appartiennent à la sphère S.

c/ Montrer que S est la seule sphère qui passe par les points I et J et dont le centre est un point de la droite (OC).

4) Déterminer l'intersection du plan P avec la sphère S.



Exercice 8

Pour chacune des questions suivantes une seule des trois réponses proposées est exacte.
Le candidat indiquera sur sa copie le numéro de la question et la lettre correspondant à la réponse choisie.
Aucune justification n'est demandée.

Dans la figure ci-contre ABCDEFGH est un cube d'arête 1.

On munit l'espace du repère $(A, \overrightarrow{AB}, \overrightarrow{AD}, \overrightarrow{AE})$.

1) Le vecteur $\overrightarrow{BF} \wedge \overrightarrow{BC}$ est égal à

- a) \overrightarrow{BG} b) \overrightarrow{BD} c) \overrightarrow{BA} .

2) L'intersection des plans d'équations $x = 1$ et $y = 1$ est la droite

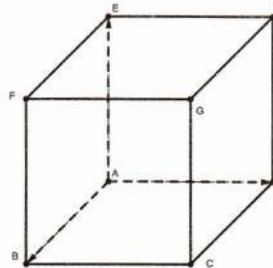
- a) (CH) b) (CF) c) (CG).

3) Une équation du plan (ACE) est

- a) $x + y = 0$ b) $x - y = 0$ c) $x - y = 1$.

4) L'intersection de la sphère d'équation $x^2 + y^2 + z^2 = 2$ avec le plan d'équation $z = 1$ est

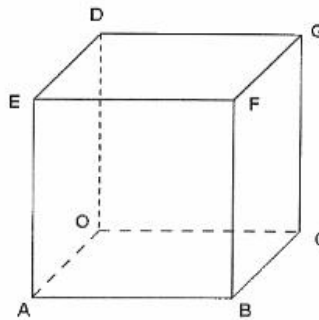
- a) un cercle b) un point c) l'ensemble vide.



Exercice 9

Dans la figure ci-contre OABCDEFG est un cube d'arête 1.

On munit l'espace du repère orthonormé direct $(O, \overrightarrow{OA}, \overrightarrow{OC}, \overrightarrow{OD})$.



- 1) a) Déterminer les composantes du vecteur $\overrightarrow{AC} \wedge \overrightarrow{AD}$.
b) En déduire qu'une équation cartésienne du plan (ACD) est $x + y + z - 1 = 0$.
- 2) Soit Δ la droite passant par O et perpendiculaire au plan (ACD)
 - a) Donner une représentation paramétrique de la droite Δ .
 - b) Déterminer les coordonnées du point H, intersection de Δ et du plan (ACD).
- 3) Pour tout réel m , on désigne par S_m l'ensemble des points $M(x, y, z)$ de l'espace tels que : $x^2 + y^2 + z^2 - 2mx - 2my - 2mz - 1 + 3m^2 = 0$
 - a) Montrer que pour tout réel m , S_m est une sphère dont on précisera le centre I_m et le rayon r .
 - b) Déterminer les valeurs de m pour lesquelles S_m passe par le point A.
- 4) a) Vérifier que les centres des sphères S_0 et S_2 sont deux points de la droite Δ .
b) Justifier que le plan (ACD) coupe les deux sphères S_0 et S_2 suivant un même cercle qu'on précisera.

Exercice 10

Dans l'espace muni d'un repère orthonormé direct $(O, \vec{i}, \vec{j}, \vec{k})$, on considère les points

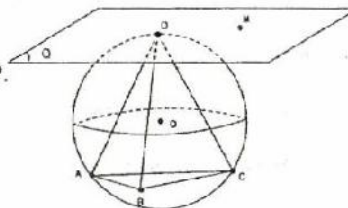
$A(2, 0, 1)$, $B(0, 2, 1)$ et $C(1, 2, 0)$.

- 1) a- Déterminer les composantes du vecteur $\overrightarrow{AB} \wedge \overrightarrow{AC}$.
b- Déduire que les points A, B et C déterminent un plan P dont une équation cartésienne est : $x + y + z - 3 = 0$.
- 2) Soit la sphère S d'équation $x^2 + y^2 + z^2 = 5$.
 - a- Vérifier que A, B et C sont des points de la sphère S.
 - b- Déduire alors l'intersection de la sphère S avec le plan P.

3) Soit le point D de coordonnées $\left(\frac{\sqrt{5}}{3}, \frac{\sqrt{5}}{3}, \frac{\sqrt{5}}{3}\right)$.

On désigne par Q le plan passant par D et parallèle au plan P.

- a- Déterminer une équation cartésienne du plan Q.
- b- Montrer que Q est tangent à la sphère S au point D.



4) Soit $M(x, y, z)$ un point de l'espace n'appartenant pas à P.

a- Calculer $(\overrightarrow{AB} \wedge \overrightarrow{AC}) \cdot \overrightarrow{AM}$.

b- Montrer que le volume V du tétraèdre MABC est égal à $\frac{|x + y + z - 3|}{3}$.

c- En déduire que pour tout point M du plan Q ; $V = \frac{\sqrt{5}}{3} - 1$.