

Exercice N°1 :

Un oscillateur électrique est constitué d'un condensateur de capacité C et d'une bobine d'inductance L et de résistance interne supposée nulle et un résistor de résistance R et un générateur GBF qui alimente l'ensemble par une tension sinusoïdale $u(t)=10 \sin(2\pi Nt)$.

1°/ Etablir, en fonction de q et de ses dérivées première et seconde, l'équation différentielle en q(t).

2°/ On rappelle que la valeur de la charge maximale Q_m est liée à la fréquence N de l'excitateur par la relation qui suit : $Q_m = \frac{U_m}{\sqrt{R^2 \omega^2 + (L\omega^2 - \frac{1}{C})^2}}$

a- Etablir l'expression de la fréquence de résonance de charge N_r .

b- On donne le Graphe $Q_m=f(N)$:

Déterminer à partir du graphe

- La fréquence N_r de résonance de la charge de l'oscillateur.
- L'amplitude de la charge du condensateur lorsque :
 - $N=N_r$.
 - N tend vers 0.

En déduire

- La valeur de la capacité C du condensateur ainsi que la valeur de l'inductance L (On donne $N_0= 210\text{Hz}$).
- La valeur de la résistance R.

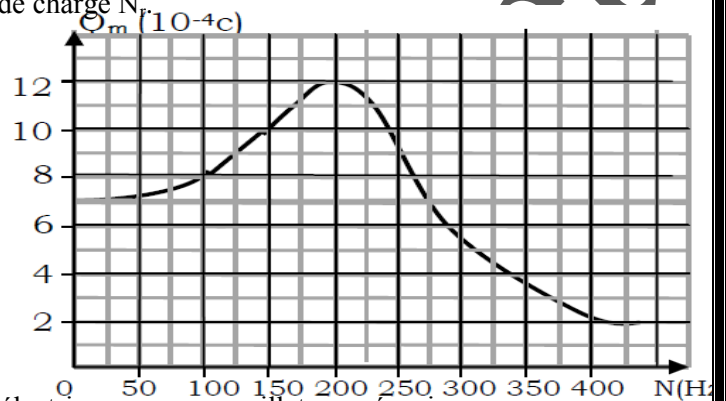
3°/ On se propose de faire un analogue de l'oscillateur électrique avec un oscillateur mécanique.

a- Faire une analogie électrique-mécanique.

b- Ecrire l'équation différentielle en x(t).

c-Ecrire l'expression de X_m en fonction de F_m, I, m, ω et ω_0 .

d-Donner les expressions des pulsations qui correspondent aux résonances d'élongation et de vitesse.



Exercice N°2 :

Partie 1 :

Un oscillateur mécanique est formé d'un ressort (R) à spires non jointives, de masse négligeable et de constante de raideur $k = 20\text{N.m}^{-1}$ lié à un solide (S) de masse m qui peut se déplacer sur un plan horizontal. A l'équilibre le centre d'inertie G du solide coïncide avec l'origine o d'un repère horizontale (o, i).

On écarte le solide (S) de sa position d'une distance $d = 5\text{cm}$ et on le lâche sans vitesse initiale à $t = 0 \text{ s}$.

On désigne par x l'abscisse de son centre d'inertie G et v sa vitesse à l'instant t.

Les frottements sont de type visqueux et équivalent à une force $f = -hv$ ou h est une constante positive.

1°/a- Préciser, en le justifiant, la nature des oscillations.

b- Etablir l'équation différentielle en x de cet oscillateur.

2°/ L'enregistrement mécanique du mouvement du solide (S) au cours du temps donne la figure 1

a- Donner le régime des oscillations.

b- Déterminer la durée T d'une oscillation, préciser son nom.

3°/a- Montrer que le système {(S),(R)} est non conservatif.

b- Déterminer la variation de l'énergie ΔE entre $t_0= 0\text{s}$ et $t_1= 1,5T$.

4°/ On suppose que les frottements sont négligeables.

a- Réécrire, alors, l'équation différentielle.

b- Déterminer l'expression de l'abscisse x du solide. On donne la fréquence propre $N_0 = 1,25 \text{ Hz}$.

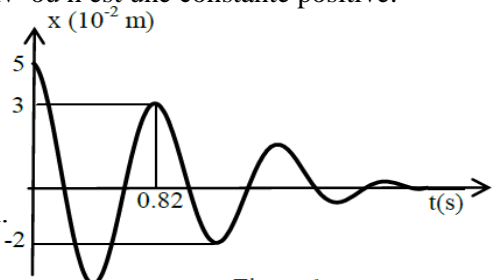


Figure 1

Partie 2 :

Pour entretenir les oscillations du solide (S), un dispositif approprié permet d'exercer sur l'oscillateur une force excitatrice F de fréquence variable N telle que $F(t)= F(t).i$ avec $F(t)=1,2 \sin(2\pi Nt)$.

1°/a- Donner, par analogie électrique mécanique, l'équation différentielle en v(t) de cette oscillateur. v(t) étant la vitesse instantanée du solide (S).

b- L'équation différentielle de l'oscillateur en v(t) admet comme solution une fonction de la forme $v(t) = V_m \sin(2\pi Nt + \phi_v)$. Préciser en justifiant la nature des oscillations de cet oscillateur.

2°/ Pour une valeur N_1 de la fréquence N , on donne les deux chronogrammes de la figures ci-dessous.

L'une correspond à $F(t)$ et l'autre correspond à $v(t)$.

a- Justifier que la courbe 1 correspond à $F(t)$.

b- Déterminer graphiquement :

- La fréquence N_1 de la force excitatrice $F(t)$.
- L'amplitude V_m de la vitesse de S .

En déduire l'amplitude X_m de l'élongation $x(t)$.

c- Déterminer l'expression de l'élongation $x(t)$.

d- Donner, par analogie électrique mécanique, l'expression de l'amplitude V_m de la vitesse de S .

3°/a- Montrer que l'oscillateur mécanique est en état de résonance de vitesse.

b- Déduire :

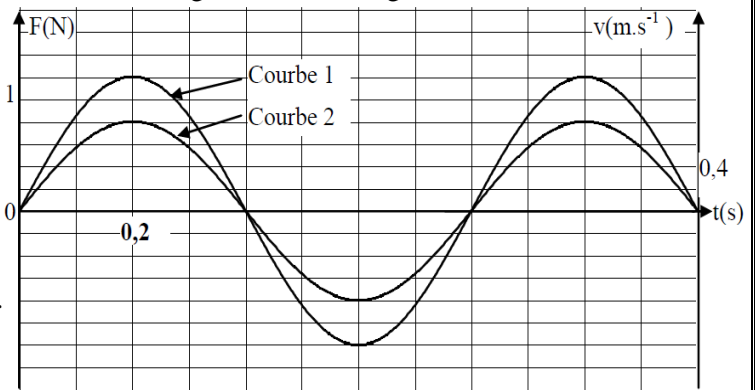
- La valeur du coefficient de frottement h .
- La masse m de S . On rappelle que la constante raideur du ressort $K = 20 \text{ N.m}^{-1}$.

4°/a- Montrer que l'expression de force de frottement à la fréquence N_1 est $f(t) \in 1,2 \sin(2,5\pi t + \pi)$.

b- Tracer l'allure de la courbe de $f(t)$.

c- Trouver, à la fréquence N_1 , la relation entre $F(t)$ et $f(t)$.

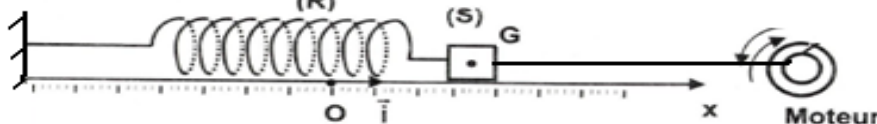
d- Montrer qu'à la fréquence N_1 , l'équation de l'oscillateur est : $m \frac{dv}{dt} + k \int v dt = 0$



Exercice N°3 :

Un oscillateur mécanique est constitué d'un ressort (R), à spires non jointives, de masse supposée négligeable de raideur k , lié à un solide (S) supposé ponctuelle de masse $m = 220 \text{ g}$ qui peut se déplacer sur un plan horizontal. A l'équilibre, le centre d'inertie G du solide coïncide avec l'origine O d'un repère (o, i) .

La position du solide à un instant t donné est repérée par son abscisse $x(t)$ dans ce repère. Au cours de son mouvement, le solide (S) est soumis à une force de frottement visqueux $f = -hv$ ou h est une constante positive et est v le vecteur vitesse de G . Un dispositif approprié (moteur) permet d'exercer sur (S) une force excitatrice $F(t) = F_m \sin(2\pi Nt)$ avec F_m constante et N réglable, de façon que l'élongation est $x(t) = X_m \sin(2\pi Nt + \varphi_x)$.

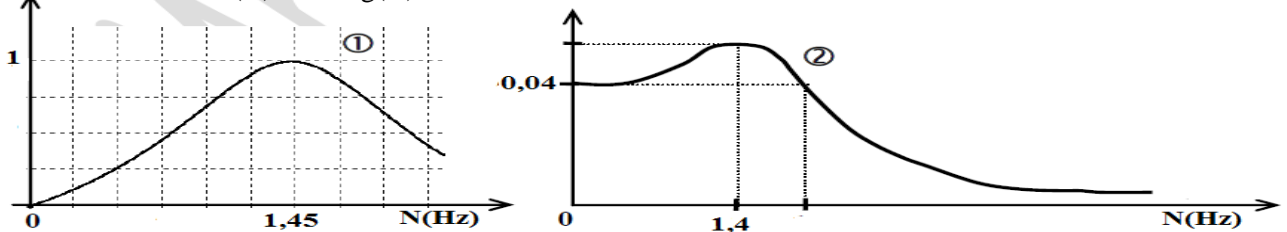


1°/ Donner, par analogie électrique mécanique, l'équation différentielle en $x(t)$.

2°/ On rappelle que l'expression de l'amplitude $X_m = \frac{F_m}{\sqrt{h^2 w^2 + (m w^2 - k)^2}}$ avec $w = 2\pi N$: pulsation de l'excitateur.

Montrer que l'amplitude X_m est maximale pour la fréquence $N_r = \sqrt{N_0^2 - \frac{h^2}{8\pi^2 m^2}}$ N_0 : Fréquence propre.

3°/ On fait varier la fréquence N , on mesure chaque fois l'amplitude X_m des oscillations puis on déduit l'amplitude V_m de la vitesse instantanée de (S). Ce qui a permis de tracer les courbes (1) et (2) de la figure suivante traduisant les variations de $X_m = f(N)$ et $V_m = g(N)$.



a- Les courbes mettent en évidence deux phénomènes de résonance. Nommer ces phénomènes.

b- Préciser en le justifiant la quelle des courbes correspond à la résonance d'élongation?

c- Expliquer comment peut-on obtenir la courbe $V_m = g(N)$ à partir de courbe $X_m = f(N)$.

d- Relever à partir des courbes :

- La valeur de N_0 et en déduire la valeur de k .
- La valeur de N_r et calculer celle de h . Déduire la valeur de F_m .

4°/ On change le liquide amortisseur ; on constate qu'on n'obtient plus le phénomène de résonance d'élongation. Interpréter ce résultat. Déduire la valeur limite de coefficient de frottement h_L .

Exercice N°4 :

Un solide (S) de masse m est attaché à un ressort (R) de raideur $k = 40 \text{ N.m}^{-1}$ et de masse négligeable.

Le solide (S), peut glisser sur un banc à coussin d'air horizontal. On désigne par x l'abscisse de G et v sa vitesse dans le repère (O,i) parallèle au banc.

A un instant $t_0 = 0 \text{ s}$, on écarte le solide (C) de sa position de repos ($x = 0$) d'une distance x_0 , puis on le libère avec une vitesse initiale v_0 dans la direction parallèle à l'axe (o,i).

I- On suppose que les frottements sont négligeables

1°/a- Rappeler l'expression de l'énergie mécanique E du système : { (c) , (R) } en fonction de : m , k , v et x .

b- Justifier que le système (S) est conservatif, déduire l'équation différentielle, en x , des oscillations de G.

2°/ Un système approprié d'acquisition permet d'obtenir la courbe $x = f(t)$ de la figure ci-contre :

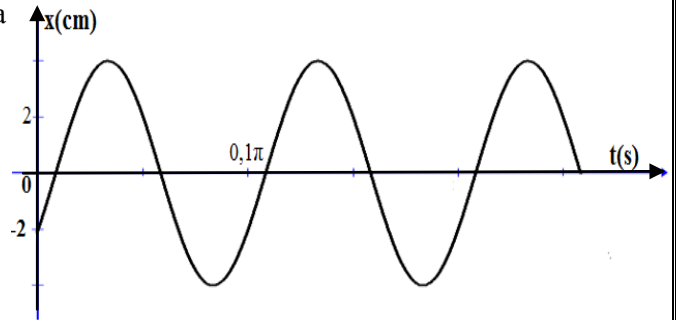
a- Déterminer :

- L'amplitude X_m et la distance x_0 ,
- La période T_0 des oscillations.

b- Déduire que la masse m du solide (S).

c- Déterminer :

- la valeur de l'énergie mécanique E et celle de l'énergie potentielle élastique initiale $E_{pe}(t=0)$.
- La valeur algébrique de v_0 .
- Les expressions de $x(t)$ et de $v(t)$.



II- Les frottements ne sont plus négligeables

On applique au solide (S) une force de frottement de type visqueux $f = -hv$ ou h est une constante positif. On écarte le solide (S) d'une distance $d = 2 \text{ cm}$ dans le sens positif de sa position d'équilibre puis on l'abandonne à lui même, le solide, y revient sans oscillations.

1°/a- Donner l'équation différentielle, en x , de cet oscillateur.

b- Préciser le type et le régime des oscillations. Représenter $x(t)$.

2°/a- Montrer que le système n'est plus conservatif

b- Déterminer l'énergie mécanique perdue par le système au cours de mouvement de solide.

III- Le solide (S) est maintenant soumis, au cours de ses oscillations, à une force excitatrice

$F(t) = 2,4 \sin(2\pi Nt + \varphi_F) \cdot i$ et à une force de frottement de type visqueux $f = -hv$ avec $h = 0,8 \text{ kg.s}^{-1}$.

Sachant que pour un dipôle RLC série soumis à une tension alternative sinusoïdale $u(t) = U_m \sin(\omega t + \varphi_u)$,

l'équation différentielle en $i(t)$ est : $L \frac{di}{dt} + R_T i + \frac{1}{C} \int i dt = u(t)$ et sa solution est $i(t) = I_m \sin(\omega t + \varphi_i)$

1°/a- Faire une construction de Fresnel (sans échelle) relative à l'équation différentielle en $i(t)$ dans le cas d'un circuit capacitif. Déduire les expressions des I_m et $\cos(\varphi_i - \varphi_u)$.

b- En précisant l'analogie utilisée

- ✓ Ecrire l'équation différentielle en $v(t)$ de l'oscillateur mécanique étudié.
- ✓ Faire la construction de Fresnel correspondante.
- ✓ Trouver les expressions des V_m et $\cos(\varphi_v - \varphi_F)$.

2°/ Pour une fréquence N_1 de l'excitateur, le système approprié d'acquisition permet d'obtenir la courbe $v = g(t)$ ci-contre :

a- Déterminer graphiquement la fréquence N_1 et l'amplitude V_m .

b- Déterminer le rapport $\frac{F_m}{V_m}$ donné sa signification physique.

c- En déduire que l'oscillateur est en état de résonance de vitesse.

d- Déterminer φ_F .

e- Donner l'expression de la puissance mécanique moyenne de cet oscillateur. Calculer sa valeur pour $N = N_1$

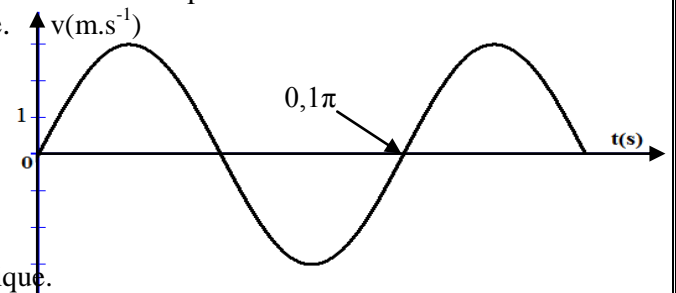
3°/ pour une valeur N_2 de la fréquence de l'excitateur, l'amplitude des oscillations devient maximale.

a- Donner le nom du phénomène qui a lieu dans l'oscillateur pour la fréquence N_2 .

b- Donner, par analogie électrique mécanique, l'expression de N_2 .

c- Comparer N_1 et N_2 . Calculer N_2 .

d- Montrer que $\cos(\varphi_v - \varphi_F) = \frac{2\pi N_2 X_m h}{F_m}$



Exercice N°5 :

Un oscillateur mécanique est constitué :

- D'un ressort (R), à spires non jointives, de masse supposée négligeable de raideur $k=40\text{N.m}^{-1}$.
- D'un solide (S) de masse m de centre d'inertie G qui peut glisser sur un banc à coussin d'air horizontal.

A l'équilibre, le centre d'inertie G du solide coïncide avec l'origine O d'un repère (o,i). La position du solide à un instant t donné est repérée par son abscisse $x(t)$ dans ce repère. Au cours de son mouvement, le solide (S) est soumis à une force de frottement visqueux $f = -hv$ ou h est une constante positive et est v le vecteur vitesse de G. Les oscillations de (S) sont entretenues par une force excitatrice $F(t)=F_m \sin(2\pi Nt+\varphi_F)$.

I/ Donner, par analogie électrique mécanique, l'équation différentielle en $x(t)$.

II/ Pour une fréquence $N=N_1$ imposé par l'excitateur, on a représenté sur la figure suivante les variations de $F(t)$ et $T(t)$ en fonction de temps.

1° Identifier les courbes (1) et (2).

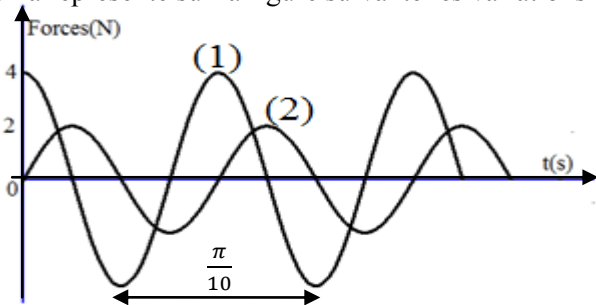
2° En exploitant le graphe déterminer les expressions de $F(t)$ et $T(t)$.

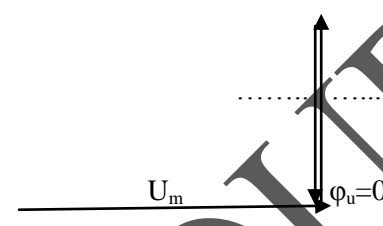
3°/a- Dédurre l'expression de $x(t)$.

b- Montrer que l'oscillateur mécanique est le siège d'une résonance de vitesse.

c- Déterminer ω_0 et déduire la valeur de la masse m .

4° On donne le tableau suivant :



	Oscillateur électrique	Oscillateur mécanique
Equation différentielle	$L \frac{di}{dt} + R_T i + \frac{1}{C} \int idt = u(t)$
Construction de Fresnel (Sans échelle)	Résonance d'intensité 	Résonance de.....

a- Utiliser l'analogie électrique-mécanique pour compléter le tableau.

b- Exploiter la construction de Fresnel relative à l'oscillateur mécanique pour déterminer la valeur de h .

c- En déduire la valeur de la puissance mécanique moyenne.

d- Montrer que l'énergie mécanique du système $\{(S),(R)\}$ est constante pour $N=N_1$.

III/ Pour une fréquence $N=N_2$, on constate que l'amplitude de la tension du ressort T_m est maximale.

1° Préciser l'état de l'oscillateur mécanique.

2° On rappelle que l'amplitude de la vitesse est donnée par l'expression : $V_m = \frac{F_m}{\sqrt{h^2 + (m\omega - \frac{k}{\omega})^2}}$

a- Déterminer l'expression de l'amplitude de l'élongation X_m .

b- Etablir l'expression de la fréquence N_2 en fonction de N_1 , h , m et en déduire la valeur limite h_0 du coefficient du frottement.

c- Calculer la valeur de la fréquence N_2 .

3° Sur le même graphe, tracer l'allure de :

- $T_m = f(N)$: amplitude de la tension de ressort en fonction de N .

- $f_m = f(N)$: Amplitude de la force de frottement en fonction de N .

Préciser les valeurs particulières.