

<u>Lycée Houmet Souk</u>	<u>Devoir de Synthèse N : 1</u>	<u>4 Mathématiques 1</u>
<u>Prof : Loukil Mohamed</u>	<u>Durée : 3 Heures</u>	<u>17 - 12 - 2020</u>

EXERCICE N : 1 (3.5 points)

Dans l'annexe (**Figure 1**) on donne :

- $R(O, \vec{u}, \vec{v})$ un repère orthonormé direct • (\mathcal{C}) est le cercle de centre O et de rayon 1 .
- E est le point de (\mathcal{C}) tel que $(\vec{u}, \overrightarrow{OE}) \equiv \theta [2\pi]$ • D est le point d'affixe $Z_D = i\sqrt{1+\sqrt{2}}$.

1) a) Vérifier que : $OD^2 = 1 + \sqrt{2}$.

b) Soit A le point d'affixe $Z_A = Z_D e^{i\theta}$.

Vérifier que : $Z_A = OD e^{i(\theta + \frac{\pi}{2})}$ puis placer le point A dans le repère R .

2) On considère dans \mathbb{C} l'équation : $E) Z^2 + \frac{\sqrt{2}}{i\sqrt{1+\sqrt{2}}} e^{i\theta} Z + e^{i2\theta} = 0$.

a) Vérifier que Z_A est une solution de l'équation E) .

b) On désigne par B le point d'affixe Z_B deuxième solution de l'équation E) .

Prouver que : $Z_B = \frac{1}{OD} e^{i(\theta - \frac{\pi}{2})}$

c) Montrer que $O \in [AB]$.

3) a) Placer le point C d'affixe $Z_C = OD e^{i\theta}$.

b) Montrer que $\frac{\text{aff}(\overrightarrow{AC})}{\text{aff}(\overrightarrow{AB})} = \frac{\sqrt{2}}{2} (1+i)$.

c) Déduire la nature du triangle ABC puis construire le point B .

EXERCICE N : 2 (3 points)

On donne : $\omega = e^{i\frac{2\pi}{5}}$ et on note par Ω son point image .

1) a) Vérifier que pour tout $Z \in \mathbb{C}$; $(1-Z)(1+Z+Z^2+Z^3+Z^4) = 1-Z^5$.

b) Déduire que ; $1 + \omega + \omega^2 + \omega^3 + \omega^4 = 0$.

2) Montrer que pour tout $Z \in \mathbb{C}^*$; $\frac{1}{Z^2} (1+Z+Z^2+Z^3+Z^4) = (Z + \frac{1}{Z})^2 + (Z + \frac{1}{Z}) - 1$.

3) On considère dans \mathbb{R} l'équation : $E) x^2 + x - 1 = 0$.

a) Vérifier que $(\omega + \frac{1}{\omega})$ est une solution de E) .

b) Résoudre dans \mathbb{R} l'équation E) .

c) Déduire que : $\cos(\frac{2\pi}{5}) = \frac{\sqrt{5}-1}{4}$.

4) Dans l'annexe (**Figure 2**) le plan est rapporté à un repère orthonormé direct (O, \vec{i}, \vec{j}) .

On donne les points I et A d'affixes respectifs $Z_I = -\frac{1}{4}$ et $Z_A = \frac{i}{2}$.

Le cercle (Γ) de centre I et passant par A coupe l'axe (O, \vec{i}) au point H .

a) Montrer que $OH = \cos(\frac{2\pi}{5})$.

b) Construire alors le polygone dont les sommets sont les points images des racines 5èmes de l'unité

EXERCICE N : 3 (4 points)

Dans (**la figure 3**) de l'annexe, on a tracé dans un repère orthonormé les courbes représentatives des fonctions f et g définies sur $[-1; +\infty[$ par : $f(x) = 3\sqrt{x+1}$ et $g(x) = (x^2 - 2x)\sqrt{x+1}$.

A) Déterminer **graphiquement** les positions relatives de (C_f) et (C_g) .

B) Soit $x \in [-1; 3]$. On pose M et N deux points de même abscisse x et qui appartiennent respectivement à (C_f) et (C_g) et $\varphi(x) = MN$.

1) a) Justifier que : $\varphi(x) = (x+1)^{\frac{3}{2}}(3-x)$.

b) Etudier la dérivabilité de φ à droite de -1 .

2) a) Dresser le tableau de variations de φ sur $[-1; 3]$.

b) Déduire alors la distance maximale MN . (**Donner la valeur exacte**)

3) Tracer dans l'annexe la courbe (C_φ) ainsi que les demies-tangentes aux points d'abscisse -1 et 3 .

EXERCICE N : 4 (9.5 points)

I) Soit la fonction f définie sur $] -1, 1 [$ par : $f(x) = -1 + \frac{x}{\sqrt{1-x^2}}$.

1) a) Dresser le tableau de variations de f .

b) Montrer que f réalise une bijection de $] -1, 1 [$ sur \mathbb{R} .

c) Démontrer que pour tout $x \in \mathbb{R}$ on a : $f^{-1}(x) = \frac{x+1}{\sqrt{(x+1)^2 + 1}}$.

2) a) Etudier les variations de la fonction ψ définie sur $] -1, 1 [$ par : $\psi(x) = f(x) - x$.

b) Montrer que l'équation : $\psi(x) = 0$ admet dans $] -1, 1 [$ une unique solution $\alpha \in] 0 ; 1 [$.

c) Déduire le signe de $\psi(x)$ pour tout $x \in] -1, 1 [$.

II) Soit (U_n) la suite réelle définie sur \mathbb{N} par : $U_0 \in [0, \alpha]$ et $U_{n+1} = f^{-1}(U_n)$.

1) Montrer que pour tout $n \in \mathbb{N}$ on a : $U_n \in [0, \alpha]$.

2) a) Montrer que pour tout $x \in [0, \alpha]$ on a : $f^{-1}(x) \geq x$.

b) Montrer alors que la suite (U_n) est monotone.

c) Déduire que la suite (U_n) est convergente et donner sa limite.

3) Pour tout $x \in] -1, 1 [$, on pose : $h(x) = f(\cos[\frac{\pi}{2}(x+1)])$.

a) Montrer que pour tout $x \in] -1, 1 [$ on a : $h(x) = -1 + \cotan[\frac{\pi}{2}(x+1)]$.

b) Montrer que h admet une réciproque h^{-1} définie sur \mathbb{R} .

c) Montrer que h^{-1} est dérivable sur \mathbb{R} et que $(h^{-1})'(x) = \frac{-2}{\pi((x+1)^2 + 1)}$.

III) Pour tout $x \in \mathbb{R}^*$, on pose $H(x) = h^{-1}(x-1) + h^{-1}\left(\frac{1}{x}-1\right)$.

1) Montrer que H est dérivable sur \mathbb{R}^* et pour tout $x \in \mathbb{R}^*$, $H'(x) = 0$.

2) a) Calculer $h\left(-\frac{1}{2}\right)$, $h\left(\frac{1}{2}\right)$, $H(-1)$ et $H(1)$.

b) En déduire que pour tout $x \in]-\infty; 0[$, $H(x) = 1$ et pour tout $x \in]0; +\infty[$, $H(x) = -1$.

3) Pour tout $n \in \mathbb{N}^*$, on pose : $V_n = \sum_{k=1}^n \left[h^{-1}\left(\frac{1}{k}\right) + h^{-1}\left(-\frac{1}{k}\right) \right]$.

a) Montrer que pour tout $k \in \mathbb{N}^*$ on a : $h^{-1}\left(\frac{1}{k}\right) + h^{-1}\left(-\frac{1}{k+1}\right) = -1$.

b) Déduire alors, que pour tout $n \in \mathbb{N}^*$ on a : $V_n = -n - h^{-1}\left(-\frac{1}{n+1}\right)$.

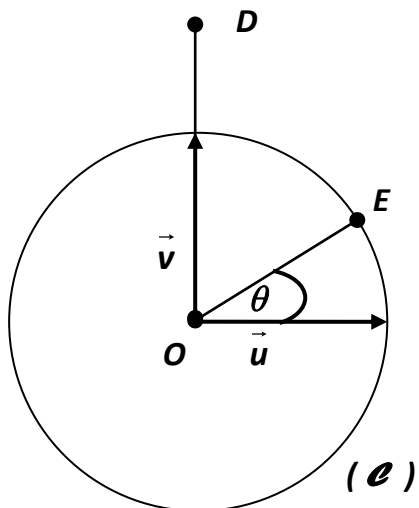
c) Déterminer $\lim_{n \rightarrow +\infty} V_n$.



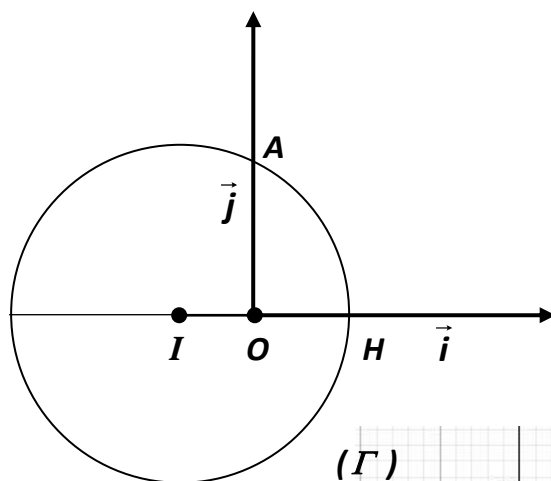
Nom et Prénom :

Annexe à rendre avec la copie

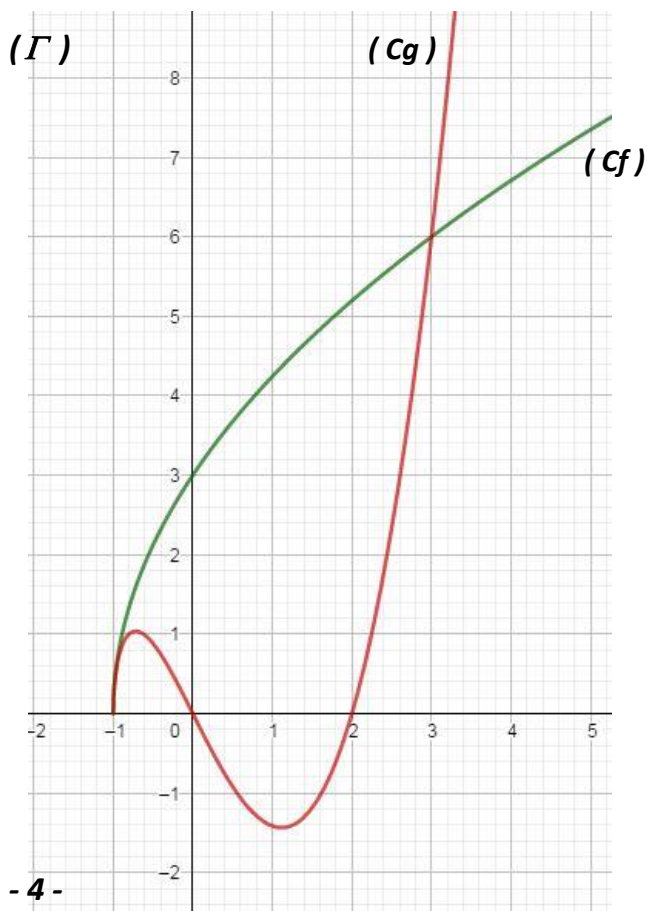
(Figure 1)



(Figure 2)

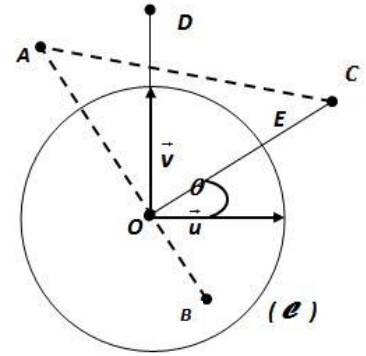


(Figure 3)



EXERCICE N : 1 (3.5 points)

(Figure 1)



1) a) $OD^2 = |Z_D|^2 = |i\sqrt{1+\sqrt{2}}|^2 = 1+\sqrt{2}$. (0.25)

b) $Z_A = Z_D e^{i\theta} = i\sqrt{1+\sqrt{2}} e^{i\theta} = e^{i\frac{\pi}{2}} OD e^{i\theta} = OD e^{i(\theta+\frac{\pi}{2})}$. (0.25) + (0.25)

2) a) $Z_A^2 + \frac{\sqrt{2}}{i\sqrt{1+\sqrt{2}}} e^{i\theta} Z_A + e^{i2\theta}$

$= (1+\sqrt{2})e^{i(2\theta+\pi)} + \frac{\sqrt{2}}{i\sqrt{1+\sqrt{2}}} e^{i\theta} i\sqrt{1+\sqrt{2}} + e^{i2\theta}$

$= -(1+\sqrt{2})e^{i2\theta} + \sqrt{2}e^{i\theta} + e^{i2\theta} = 0$ donc Z_A est une solution de E) (0.5)

b) $Z_A Z_B = \frac{c}{a} = e^{i2\theta} \Leftrightarrow Z_B = \frac{e^{i2\theta}}{Z_A} = \frac{e^{i2\theta}}{OD e^{i(\theta+\frac{\pi}{2})}} = \frac{1}{OD} e^{i(\theta-\frac{\pi}{2})}$. (0.5)

c) $Z_A \neq 0$, $\frac{\text{aff}(\overline{OB})}{\text{aff}(\overline{OA})} = \frac{1}{OD^2} e^{i\pi} = -\frac{1}{OD^2} < 0 \Rightarrow \overline{OA}$ et \overline{OB} sont **colinéaires de sens opposés** $\Leftrightarrow O \in [AB]$. (0.5)

3) a) (0.25)

b) $A \neq B$, $\frac{\text{aff}(\overline{AC})}{\text{aff}(\overline{AB})} = \frac{Z_C - Z_A}{Z_B - Z_A} = \frac{OD e^{i\theta} - OD e^{i(\theta+\frac{\pi}{2})}}{\frac{1}{OD} e^{i(\theta-\frac{\pi}{2})} - OD e^{i(\theta+\frac{\pi}{2})}} = \frac{OD^2 e^{i\theta}(1-i)}{-i e^{i\theta}(1+OD^2)} = \frac{OD^2}{(1+OD^2)}(1+i) = \frac{\sqrt{2}+1}{\sqrt{2}+2}(1+i)$
 $= \frac{\sqrt{2}+1}{\sqrt{2}(1+\sqrt{2})}(1+i) = \frac{\sqrt{2}}{2}(1+i)$. (0.5)

c) $|\frac{\text{aff}(\overline{AC})}{\text{aff}(\overline{AB})}| = |\frac{\sqrt{2}}{2}(1+i)| = 1 \Leftrightarrow AC = AB \Rightarrow ABC$ est isocèle en A . (0.25) + (0.25)

EXERCICE N : 2 (3 points)

1) a) Pour tout $Z \in \mathbb{C}$; $(1-Z)(1+Z+Z^2+Z^3+Z^4) = (1+Z+Z^2+Z^3+Z^4) - (Z+Z^2+Z^3+Z^4+Z^5)$
 $= 1 - Z^5$. (0.25)

b) $(1-\omega)(1+\omega+\omega^2+\omega^3+\omega^4) = 1-\omega^5 = 1 - e^{i2\pi} = 1-1=0$ or $\omega \neq 1$ alors $1+\omega+\omega^2+\omega^3+\omega^4=0$ (0.25)

2) $(Z + \frac{1}{Z})^2 + (Z + \frac{1}{Z}) - 1 = Z^2 + 2 + \frac{1}{Z^2} + Z + \frac{1}{Z} - 1 = \frac{1}{Z^2} + \frac{1}{Z} + 1 + Z + Z^2 = \frac{1}{Z^2} (1+Z+Z^2+Z^3+Z^4)$. (0.25)

3) E) $x^2 + x - 1 = 0$. (équation dans \mathbb{R})

a) $(\omega + \frac{1}{\omega})^2 + (\omega + \frac{1}{\omega}) - 1 = \frac{1}{\omega^2} (1+\omega+\omega^2+\omega^3+\omega^4) = \frac{1}{\omega^2} \cdot 0 = 0$.

de plus $(\omega + \frac{1}{\omega}) = e^{i\frac{2\pi}{5}} + e^{-i\frac{2\pi}{5}} = 2 \cos(\frac{2\pi}{5}) \in \mathbb{R} \Rightarrow (\omega + \frac{1}{\omega})$ est une solution de E) . (0.25) + (0.25)

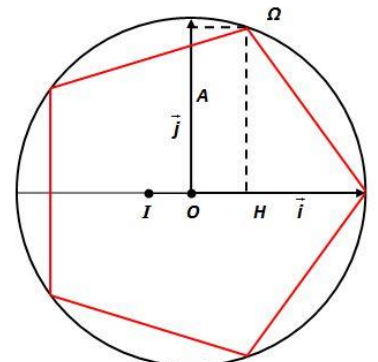
b) $\Delta = 1+4=5 \Rightarrow S_{\mathbb{R}} = \{ \frac{-1+\sqrt{5}}{2} ; \frac{-1-\sqrt{5}}{2} \}$ (0.25)

c) $\omega + \frac{1}{\omega} = 2 \cos(\frac{2\pi}{5})$ est la solution **positive** de E donc $2 \cos(\frac{2\pi}{5}) = \frac{-1+\sqrt{5}}{2} \Leftrightarrow \cos(\frac{2\pi}{5}) = \frac{\sqrt{5}-1}{4}$ (0.5)

4) a) $OH = IH - IO = IA - IO = |Z_A - Z_I| - |Z_I|$

$= |\frac{i}{2} + \frac{1}{4}| - |-\frac{1}{4}| = \sqrt{\frac{1}{4} + \frac{1}{16}} - \frac{1}{4} = \frac{\sqrt{5}-1}{4} = \cos(\frac{2\pi}{5})$ (0.5)

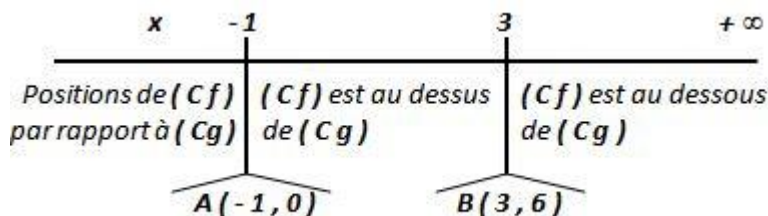
(Figure 2)



b) (0.5)

EXERCICE N : 3 (4 points)

A)



(0.5)

B) 1) a) $\varphi(x) = NM = |f(x) - g(x)|$ (pour tout $x \in [-1; 3]$, (Cf) est au dessus de (Cg) $\Leftrightarrow g(x) \leq f(x)$).

$$= f(x) - g(x) = 3\sqrt{x+1} - (x^2 - 2x)\sqrt{x+1} = \sqrt{x+1}(3 - x^2 + 2x) = (x+1)^{\frac{1}{2}}(3-x)(1+x)$$

$$\Leftrightarrow \varphi(x) = (x+1)^{\frac{3}{2}}(3-x) \text{ pour tout } x \in [-1; 3]. \quad (0.5)$$

b) $\varphi(-1) = 0$; $\lim_{x \rightarrow -1^+} \frac{\varphi(x) - \varphi(-1)}{x+1} = \lim_{x \rightarrow -1^+} \frac{(x+1)^{\frac{3}{2}}(3-x)}{x+1} = \lim_{x \rightarrow -1^+} (x+1)^{\frac{1}{2}}(3-x) = 0 = \varphi'_d(0)$

Donc φ est dérivable à droite de 0. (0.5)

2) a) $x \mapsto x+1$ et $x \mapsto 3-x$ (fonctions polynômes) sont dérivables sur \mathbb{R} en particulier sur $]-1; 3]$ de plus $x+1 > 0$ sur ce intervalle alors

$x \mapsto (x+1)^{\frac{3}{2}}$ est dérivable sur $]-1; 3]$ donc de même pour φ .

$$\forall x \in]-1; 3], \varphi'(x) = \frac{3}{2}(x+1)^{\frac{1}{2}}(3-x) - (x+1)^{\frac{3}{2}}$$

$$= (x+1)^{\frac{1}{2}}\left(\frac{9}{2} - \frac{3}{2}x - x - 1\right) = (x+1)^{\frac{1}{2}}\left(\frac{7}{2} - \frac{5}{2}x\right)$$

Donc $\varphi'(x)$ prend le signe de $(7-5x)$ sur $]-1; 3]$. (1)

b) La distance maximale MN est $\varphi\left(\frac{7}{5}\right) = \frac{192}{25}\sqrt{\frac{3}{5}}$ (Valeur exacte). (0.5)

3) $\varphi'_g(3) = (3+1)^{\frac{1}{2}}\left(\frac{7}{2} - \frac{5}{2} \cdot 3\right) = 4^{\frac{1}{2}}(-4) = 2 \cdot (-4) = -8$. (1)

EXERCICE N : 4 (9.5 points)

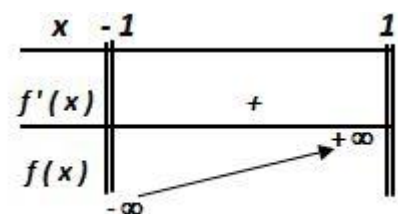
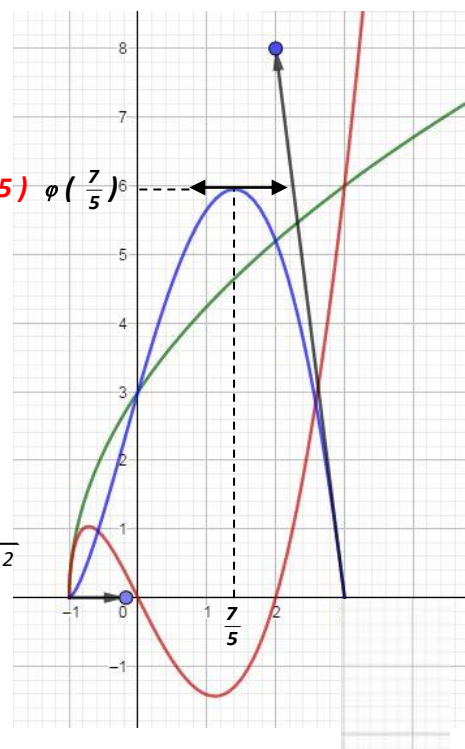
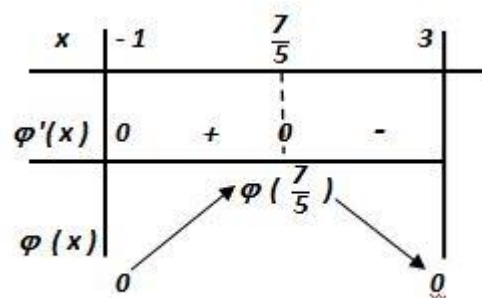
I) 1) a) $f(x) = -1 + \frac{x}{\sqrt{1-x^2}}$.

$x \mapsto 1-x^2$ et $x \mapsto x$ (fonctions polynômes) sont dérivables sur \mathbb{R} en particulier sur $]-1; 1[$ [et $1-x^2 > 0$ sur cet intervalle alors $x \mapsto \sqrt{1-x^2}$ est dérivable sur $]-1; 1[$ donc de même pour f].

$$\forall x \in]-1; 1[, f'(x) = \frac{\sqrt{1-x^2} - \frac{2x}{2\sqrt{1-x^2}}x}{1-x^2} = \frac{1-x^2 - x^2}{(\sqrt{1-x^2})^3} = \frac{1}{(\sqrt{1-x^2})^3} > 0$$

$\lim_{x \rightarrow -1^+} f(x) = -\infty$ et $\lim_{x \rightarrow 1^-} f(x) = +\infty$. (0.5)

b) f est dérivable sur $]-1; 1[$ donc continue de plus strictement croissante par suite elle réalise une bijection de $]-1; 1[$ sur $f(]-1; 1[) = \mathbb{R}$. (0.5)

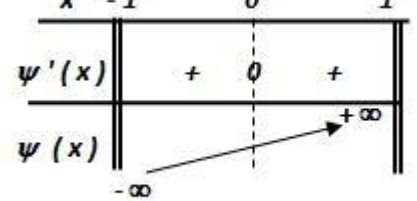


$$c) f\left(\frac{x+1}{\sqrt{(x+1)^2+1}}\right) = -1 + \frac{\frac{x+1}{\sqrt{(x+1)^2+1}}}{\sqrt{1-\frac{(x+1)^2}{(x+1)^2+1}}} = -1 + \frac{\frac{x+1}{\sqrt{(x+1)^2+1}}}{\sqrt{\frac{1}{(x+1)^2+1}}} = -1 + x+1 = x \Rightarrow f^{-1}(x) = \frac{x+1}{\sqrt{(x+1)^2+1}} \quad (0.5)$$

2) a) $\psi(x) = f(x) - x$. ψ est dérivable sur $] -1, 1[$ (Somme de deux fonctions dérivables sur $] -1, 1[$)

$$\psi'(x) = f'(x) - 1 = \frac{1}{(\sqrt{1-x^2})^3} - 1 \geq 0 \text{ car } 0 < 1-x^2 \leq 1 \Leftrightarrow 0 < (\sqrt{1-x^2})^3 \leq 1 \Rightarrow 1 \leq \frac{1}{(\sqrt{1-x^2})^3}$$

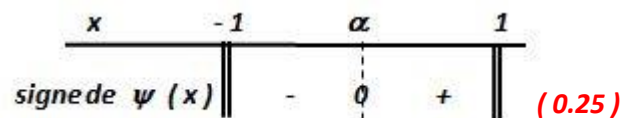
$$\lim_{x \rightarrow -1^+} \psi(x) = \lim_{x \rightarrow -1^+} f(x) - x = -\infty \text{ et } \lim_{x \rightarrow 1^-} \psi(x) = \lim_{x \rightarrow 1^-} f(x) - x = +\infty \quad (0.5)$$



b) ψ est dérivable sur $] -1, 1[$ donc continue de plus strictement croissante par suite elle réalise une bijection de $] -1, 1[$ sur $\psi(] -1, 1[) = \mathbb{R}$ or $0 \in \mathbb{R}$

donc il admet un unique antécédent $\alpha \in] -1, 1[$ de plus $\psi(0) = f(0) = -1 < \psi(\alpha) \Rightarrow \alpha \in]0, 1[$. (0.5)

c) ψ est strictement croissante sur $] -1, 1[$ et $\psi(\alpha) = 0$ alors



II) 1) Montrons que $\forall n \in \mathbb{N}; U_n \in [0, \alpha]$

* Pour $n = 0, U_0 \in [0, \alpha]$ la proposition est vraie

* Supposons que pour tout $n \in \mathbb{N} U_n \in [0, \alpha]$ et montrons $U_{n+1} \in [0, \alpha]$

on a : $0 \leq U_n \leq \alpha$ or f est croissante sur $] -1, 1[\Leftrightarrow f^{-1}$ est croissante sur \mathbb{R} par suite

$$f^{-1}(0) \leq f^{-1}(U_n) \leq f^{-1}(\alpha) \Leftrightarrow \frac{1}{\sqrt{2}} \leq U_{n+1} \leq \alpha \text{ (car } f(\alpha) = \alpha \Leftrightarrow f^{-1}(\alpha) = \alpha) \Rightarrow U_{n+1} \in [0, \alpha].$$

Conclusion : $\forall n \in \mathbb{N}; U_n \in [0, \alpha]$. (0.5)

2) a) $\forall x \in [0, \alpha], \psi(x) \leq 0 \Leftrightarrow f(x) - x \leq 0 \Leftrightarrow f(x) \leq x \Leftrightarrow f^{-1}(f(x)) \leq f(x) \Leftrightarrow x \leq f^{-1}(x)$. (0.25)

b) $\forall n \in \mathbb{N}; U_n \in [0, \alpha], 2) a) \Rightarrow U_n \leq f^{-1}(U_n) \Leftrightarrow U_n \leq U_{n+1}$ donc (U_n) est croissante sur \mathbb{N} . (0.25)

c) (U_n) est croissante et majorée par α donc converge vers un réel $l \in [0, \alpha]$ (0.25) or $U_{n+1} = f^{-1}(U_n)$

$$\Rightarrow \lim_{n \rightarrow +\infty} U_{n+1} = \lim_{n \rightarrow +\infty} f^{-1}(U_n), f^{-1} \text{ est continue sur } \mathbb{R} \text{ en particulier en } l \text{ par suite } l = f(l) \Leftrightarrow \psi(l) = 0$$

$$\Leftrightarrow l = \alpha \Rightarrow \lim_{n \rightarrow +\infty} U_n = \alpha \quad (0.25).$$

$$3) a) \text{ Pour tout } x \in] -1, 1[, h(x) = f\left(\cos\left[\frac{\pi}{2}(x+1)\right]\right) - 1 = \frac{\cos\left[\frac{\pi}{2}(x+1)\right]}{\sqrt{1 - \cos^2\left[\frac{\pi}{2}(x+1)\right]}}$$

$$= -1 + \frac{\cos\left[\frac{\pi}{2}(x+1)\right]}{|\sin\left[\frac{\pi}{2}(x+1)\right]|} \text{ or } \frac{\pi}{2}(x+1) \in]0; \pi[\Rightarrow h(x) = -1 + \cotan\left[\frac{\pi}{2}(x+1)\right] \quad (0.5)$$

b) $x \mapsto \cotan x$ dérivable sur $\mathbb{R} \setminus \{k\pi, k \in \mathbb{Z}\}$ or $\frac{\pi}{2}(x+1) \in]0; \pi[$ pour tout $x \in] -1, 1[$

donc h est dérivable sur $] -1, 1[, \forall x \in] -1, 1[, h'(x) = -\frac{\pi}{2}(1 + \cotan^2\left[\frac{\pi}{2}(x+1)\right]) < 0$

$\Rightarrow h$ admet une réciproque h^{-1} définie sur $h(] -1, 1[) =] \lim_{x \rightarrow 1^-} h(x); \lim_{x \rightarrow -1^+} h(x) [= \mathbb{R}$. (0.5)

c) h est dérivable sur $] -1, 1[$ et $h'(x) \neq 0$ sur cet intervalle alors h^{-1} est dérivable sur \mathbb{R} et $\forall x \in \mathbb{R}$ (0.25),

$$(h^{-1})'(x) = \frac{1}{h'(y)} \text{ (avec } y = h^{-1}(x) \Leftrightarrow h(y) = x \Leftrightarrow -1 + \cotan\left[\frac{\pi}{2}(y+1)\right] = x \Rightarrow \cotan^2\left[\frac{\pi}{2}(y+1)\right] = (x+1)^2)$$

$$= \frac{1}{-\frac{\pi}{2}(1 + \cotan^2[\frac{\pi}{2}(y+1)])} = \frac{-2}{\pi((x+1)^2 + 1)} \quad (0.5)$$

III) Pour tout $x \in \mathbb{R}^*$, $H(x) = h^{-1}(x-1) + h^{-1}(\frac{1}{x}-1)$.

1) $x \mapsto x-1$ et $x \mapsto \frac{1}{x}-1$ sont dérivables sur \mathbb{R}^* et h^{-1} est dérivable sur \mathbb{R} alors H est dérivable sur \mathbb{R}^* . (0.25)

$$\forall x \in \mathbb{R}^*, H'(x) = 1 \cdot (h^{-1})'(x-1) - \frac{1}{x^2} (h^{-1})'(\frac{1}{x}-1) = \frac{-2}{\pi((x-1+1)^2 + 1)} - \frac{1}{x^2} \frac{-2}{\pi((\frac{1}{x}-1+1)^2 + 1)}$$

$$= \frac{-2}{\pi(x^2 + 1)} + \frac{2}{x^2 \pi(\frac{1}{x^2} + 1)} = \frac{-2}{\pi(x^2 + 1)} + \frac{-2}{\pi(1+x^2)} = 0 \quad (0.5)$$

2) a) $h(-\frac{1}{2}) = 0$; $h(\frac{1}{2}) = -2$; $H(-1) = 2 h^{-1}(-2) = 2 \cdot \frac{1}{2} = 1$ et $H(1) = 2 h^{-1}(0) = 2(-\frac{1}{2}) = -1$. (1)

b) $\forall x \in \mathbb{R}^*$, $H'(x) = 0$ alors H est constante sur chacun des intervalles $] -\infty; 0[$ et $] 0; +\infty [$
donc $\forall x \in] -\infty; 0[$; $H(x) = H(-1) = 1$ et $\forall x \in] 0; +\infty [$; $H(x) = H(1) = -1$. (0.5)

3) a) Soit $k \in \mathbb{N}^*$, $\frac{1}{k} = (\frac{1}{k} + 1) - 1$ et $\frac{1}{\frac{1}{k} + 1} - 1 = \frac{k}{k+1} - 1 = -\frac{1}{k+1}$

$$\text{donc } h^{-1}(\frac{1}{k}) + h^{-1}(-\frac{1}{k+1}) = h^{-1}(x-1) + h^{-1}(\frac{1}{x}-1) \quad (\text{avec } x = \frac{1}{k} + 1)$$

$$= -1 \quad (\text{car } x \in] 0; +\infty [) \quad (0.5)$$

$$\text{b) } V_n = \sum_{k=1}^n [h^{-1}(\frac{1}{k}) + h^{-1}(-\frac{1}{k})] = \sum_{k=1}^n [-1 - h^{-1}(-\frac{1}{k+1}) + h^{-1}(-\frac{1}{k})] = \sum_{k=1}^n (-1) - \sum_{k=1}^n [h^{-1}(-\frac{1}{k+1})] + \sum_{k=1}^n [h^{-1}(-\frac{1}{k})]$$

$$= -n - [h^{-1}(-\frac{1}{2}) + h^{-1}(-\frac{1}{3}) + \dots + h^{-1}(-\frac{1}{n+1})] + [h^{-1}(-1) + h^{-1}(-\frac{1}{2}) + \dots + h^{-1}(-\frac{1}{n})] = -n + h^{-1}(-1) - h^{-1}(-\frac{1}{n+1})$$

$$\Leftrightarrow V_n = -n - h^{-1}(-\frac{1}{n+1}) \quad (\text{car } 0 \in] -1; 1[\text{ et } h(0) = -1 \Rightarrow h^{-1}(-1) = 0) \quad (0.5)$$

c) $\lim_{n \rightarrow +\infty} -\frac{1}{n+1} = 0$ et h^{-1} est continue en 0 alors $\lim_{n \rightarrow +\infty} h^{-1}(-\frac{1}{n+1}) = h^{-1}(0) = -\frac{1}{2} \Rightarrow \lim_{n \rightarrow +\infty} V_n = -\infty$. (0.25)