

Exercice 1

Afin de maximiser sa recette journalière, un artisan a effectué une étude statistique pour établir son prix de vente unitaire le plus adapté.

Les résultats sont donnés dans le tableau suivant :

| Prix de vente unitaire x_i (dt) | 1 | 1.5 | 2 | 2.5 | 3 | 3.5 | 4 | 4.5 |
|-----------------------------------|----|-----|----|-----|----|-----|----|-----|
| Nombre d'objets vendus y_i | 26 | 23 | 22 | 21 | 18 | 17 | 14 | 11 |

- Représenter le nuage de points de la série (x_i, y_i) dans un repère orthogonal du plan (**figure 1**)
- Déterminer le prix de vente unitaire moyen ainsi que le nombre d'objets vendus moyen puis placer le point moyen **G** de la série.
- On considère **G**₁ le point moyen de la série (x_1, y_1) ; (x_2, y_2) ; (x_3, y_3) ; (x_4, y_4) et **G**₂ le point moyen de la série (x_5, y_5) ; (x_6, y_6) ; (x_7, y_7) ; (x_8, y_8)
 - Déterminer les coordonnées de **G**₁ et **G**₂ puis tracer la droite de régression (**G**₁ **G**₂)
 - Déterminer une équation cartésienne de la droite (**G**₁ **G**₂)
- En supposant que ce modèle restera valable estimer le nombre d'objets vendus si l'artisan augmente son prix de son vente unitaire à **6dt**
- Soit **R** la fonction représentant la recette journalière de cet artisan en dinar et **D** la fonction représentant les dépenses journalières et que le coût de fabrication unitaire est de **1.5dt** et un coût de loyer journalier fixe de **11dt**
 - Montrer que $R(x) = -4x^2 + 30x$ et $D(x) = -6x + 56$
 - Déduire que la fonction du bénéfice $B(x) = -4x^2 + 36x - 56$
 - Déterminer le prix de vente unitaire donnant un bénéfice nul
- Dans l'annexe ci-joint **C_B** (**figure 2**) représente la fonction du bénéfice **B(x)**
 - Déterminer **graphiquement** la valeur du prix de vente unitaire permettant d'avoir un bénéfice maximal
 - Déterminer **graphiquement** l'intervalle de valeur du prix de vente unitaire permettant d'avoir un bénéfice **strictement positif**

Exercice 2

Soit **f** la fonction définie par $f(x) = -x^2 + 4x - 1$

- Donner l'ensemble de définition de la fonction **f**
 - Montrer que $f(x) = -(x-2)^2 + 3$
 - Tracer **C_f** la courbe représentative de **f** dans un repère orthonormé (**figure 3**)

d) Résoudre graphiquement $f(x) = 2$ et $f(x) \geq 2$

2) Soit $g(x) = 2x - 1$

a) Tracer C_g la courbe représentative de g dans le même repère

b) Résoudre graphiquement $f(x) = g(x)$

c) Soit $h(x) = f(x) - g(x)$ donner le tableau de signe de $h(x)$

3) Soit $K(x) = -x^2 + 4|x| - 1$

a) Donner le domaine de définition de K puis montrer que K est paire

b) Montrer que $f(x)$ est la restriction de K sur $[0; +\infty[$

c) Tracer C_K courbe représentative de K puis $C_{|K|}$ celle de $|K(x)|$

Exercice 3

Le poids X en Kg et la taille Y en mètre de 100 élèves sont résumés dans le tableau suivant :

| X en Kg \ Y en mètre | [50 ;60[| [60 ;70[| [70 ;80[|
|----------------------|----------|----------|----------|
| [1.6 ;1.7[| 10 | 26 | 4 |
| [1.7 ;1.8[| 8 | 30 | 5 |
| [1.8 ;1.9[| 5 | 6 | 6 |

1)

a) Donner le nombre des élèves ayant un poids entre 60 Kg et 70 Kg

b) Déterminer le pourcentage des élèves ayant une taille inférieure à 1.8 mètre

2)

a) Déterminer les distributions marginales suivant X et suivant Y de la série double (X, Y)

b) Représentez le nuage du point de cette série (figure 4)

c) Déterminer les coordonnées du point moyen G puis placer le point G

3) On s'intéresse dans cette partie à la série X représentant le poids des élèves

| X poids en Kg | [50 ;60[| [60 ;70[| [70 ;80[|
|---------------------------|----------|----------|----------|
| Effectif cumulé croissant | | | |

a) Recopier et compléter le tableau ci-dessus

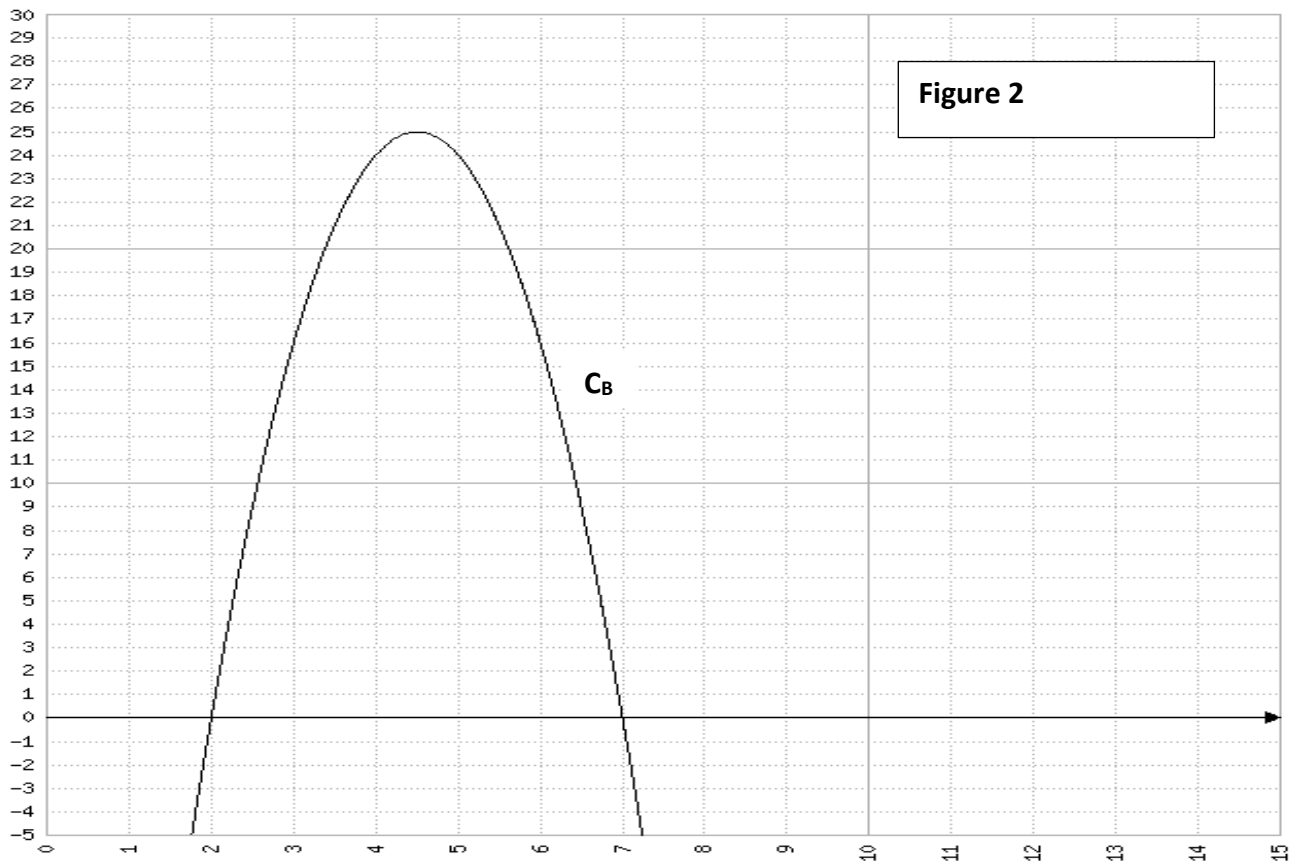

b) Déterminer la variance V et l'écart type σ de cette série

c) Déterminer la médiane Me , le premier quartile Q_1 et le troisième quartile Q_3

d) Déterminer l'interquartile I

e) Représenter le diagramme en boîte de cette série statistique (figure 5)

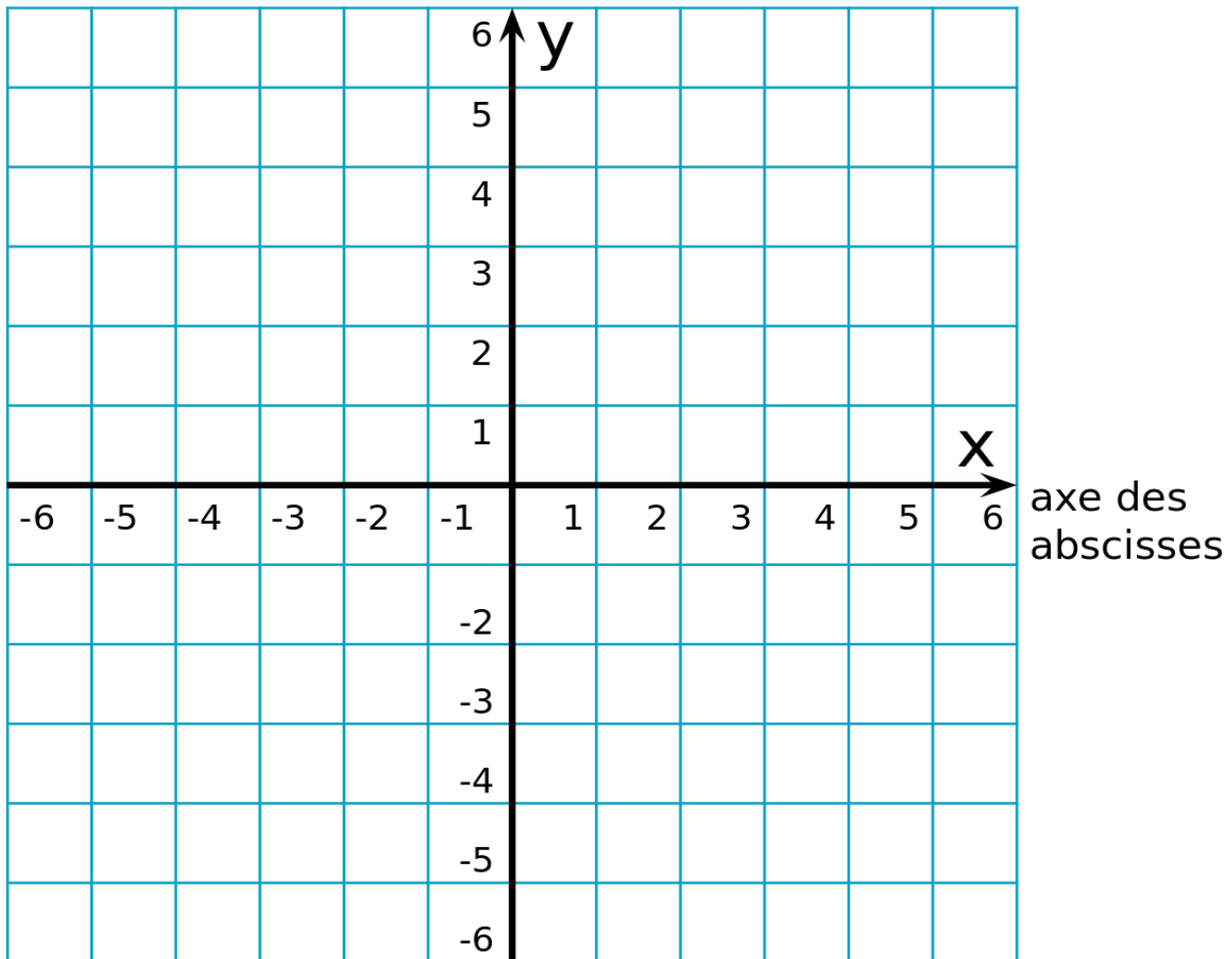
Exercice 1



Exercice 2

axe des
ordonnées

Figure 3



Exercice 3

Figure 5




Figure 4

